

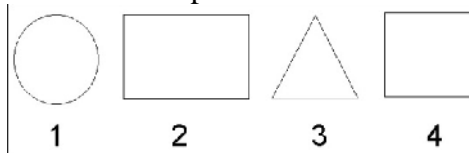
CONCURSUL JUDEȚEAN DE GEOGRAFIE „IONEL ȚUȚĂ”
Ediția a IV-a, 17 martie 2018

Clasa a IV-a Varianta 2

Subiectul I. 60p (10 x 6)


1. Pentru a desena planul clasei, figura geometrică potrivită acestui scop este cea cu numărul:

- a. 1
- b. 2
- c. 3
- d. 4



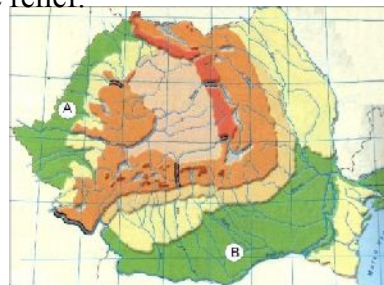
2. În fotografie se vede creasta Munților Piatra Craiului. Creasta reprezintă:

- a. Partea de la baza muntelui
- b. Partea de la mijlocul muntelui
- c. Tot muntele
- d. Partea de la vârful muntelui



3. Pe harta fizică a României, cu literele A și B sunt unitățile de relief:

- a. Câmpia Moldovei și Câmpia Transilvaniei
- b. Câmpia Moldovei și Câmpia Română
- c. Podișul Moldovei și Câmpia de Vest
- d. Câmpia de Vest și Câmpia Română



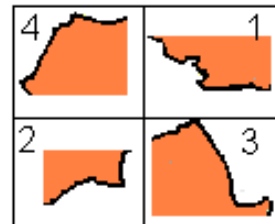
4. Busola din imagine, poziționată corect, indică:

- a. Nordul
- b. Nord-Estul
- c. Estul
- d. Nord-Vestul



5. Cele 4 piese de puzzle dau forma României. Ordinea corectă de așezare este:

- a. 4-3-2-1
- b. 3-1-2-4
- c. 2-1-3-4
- d. 1-4-2-3



6. Unitatea de relief « luminată » poartă numele de:

- a. Munții Apuseni
- b. Carpații Meridionali
- c. Carpații Occidentali
- d. Carpații Orientali



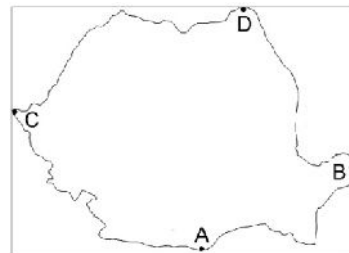
7. Segmentul de graniță ce corespunde fluviului Dunărea este marcat cu numărul:

- a. 1
- b. 2
- c. 3
- d. 4



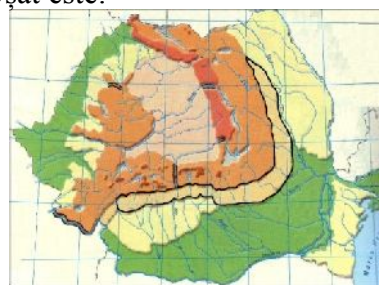
8. Punctul cel mai nordic de pe teritoriul țării este marcat cu litera:

- a. A
- b. D
- c. B
- d. C



9. Forma de relief predominantă din unitatea ce are conturul îngroșat este:

- a. Depresiunea
- b. Dealul
- c. Muntele
- d. Câmpia



10. Marea Neagră se învecinează cu România dar și cu țara vecină:

- a. Moldova
- b. Ungaria
- c. Serbia
- d. Bulagria



Subiectul II. 20p (4 x 5)

În centrul țării este o unitate de podiș.

1. Scrieți denumirea.
2. Scrieți ce formă de relief o înconjoară.
3. Scrieți ce alt podiș este spre sud în raport cu unitatea din centrul țării.
4. Scrieți numele râului ce stăbate pe la jumătate unitatea de relief din centrul țării.

Din oficiu se acord 20 p

CONCURSUL JUDEȚEAN DE GEOGRAFIE „IONEL ȚUȚĂ”
Ediția a IV-a, 17 martie 2018

Clasa a **IV**-a

BAREM DE CORECTARE ȘI EVALUARE

Sub. I 60 p (10 x 6)

Nr.întrebare	1	2	3	4	5	6	7	8	9	10
Raspuns corect	b	d	d	a	a	d	c	b	b	d

Sub. II 20 p(4 x 5)

1. Podișul Transilvaniei
2. munte/Munții Carpați
3. Getic
4. Mureș

din oficiu 20 p