

**Subiectul I.** 60 p (10 x 4)

1. La ora de desen, un elev a realizat ceea ce se vede în imagine și anume:

- a. O furtună
- b. Cer înorat
- c. Mare agitată
- d. Conturul unui continent



2. Pe Glob se observă paralele și meridiane importante ce străbat Africa.  
Linia roșie groasă corespunde:

- a. Tropicului Racului
- b. Tropicului Capricornului
- c. Paralelei de zero grade
- d. Meridianului de zero grade



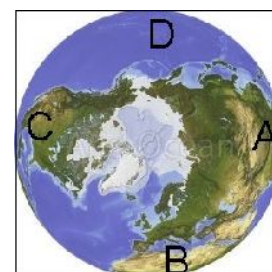
3. Pe Harta Fizică a lumii, analizând Asia și Africa se observă că:

- a. Sunt în emisfera nordică
- b. Au relief predominant de câmpie
- c. Au țărmuri crestate
- d. Au relief predominant de podiș



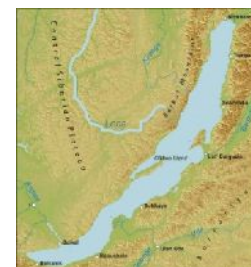
4. Pe Globul geografic Africa este în zona:

- a. C
- b. B
- c. D
- d. A



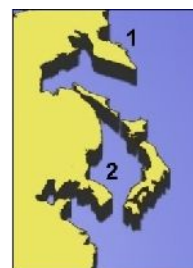
5. Lacul din imagine se numește Baikal. Este un lac tectonic datorită:

- a. Volumului mare de apă
- b. Orientării pe direcția nord-sud
- c. Formei alungite și adâncimii mari
- d. Apei dulci și reliefului montan din jur




6. Cu 1 și 2 sunt peninsulele Kamceatka și Coreea. Acestea au în comun:

- a. Vânturile alizee
- b. Prezența vulcanilor activi
- c. Pădurile de tip taiga
- d. Localizarea pe țărmul estic



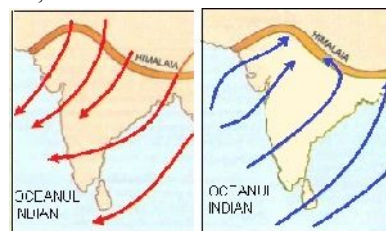
7. Animale ce se disting în imagine caracterizează:

- a. Zona mediteraneană
- b. Savana
- c. Pădurea ecuatorială
- d. Deșertul tropical



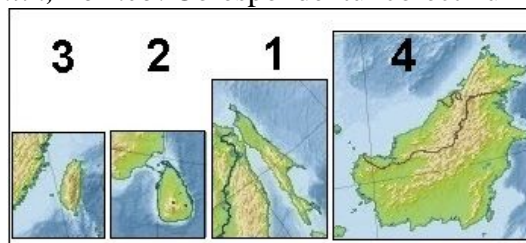
8. Cu săgeți sunt vânturi din Asia. Identificați corect denumirea și caracteristica.

- a. Vânturi polare, reci.
- b. Vânturi alizee, calde sau reci
- c. Vânturi de tip taifun, direcție întâmplătoare
- d. Vânturi musonice, își schimbă direcția



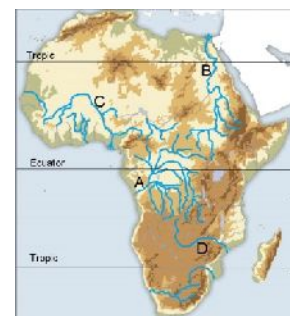
9. Lângă Asia sunt insulele: *Taiwan, Sri-Lanka, Sahlin, Borneo*. Corespondentul corect număr este:

- a. 4-3-2-1
- b. 2-4-3-1
- c. 1-3-4-2
- d. 3-2-1-4



10. Cascada Victoria este pe fluviul marcat cu litera:

- a. D
- b. B
- c. A
- d. D



## Subiectul II. 20 p (4 x 5)

La limita dintre Africa și Asia este o peninsulă mică și un canal maritim, orientat nord-sud.

- 1. Scrieți numele peninsulei.
- 2. Scrieți numele canalului maritim.
- 3. Scrieți numele mării aflată la sud de canal.
- 4. Ce rol are canalul?

**Din oficiu 20p**

CONCURSUL JUDEȚEAN DE GEOGRAFIE „IONEL ȚUȚĂ”  
Ediția a IV-a, 17 martie 2018

Clasa a VII-a

BAREM DE CORECTARE ȘI EVALUARE

**Sub. I 60 p (10 x 6)**

Nr. întrebare	<b>1</b>	<b>2</b>	<b>3</b>	<b>4</b>	<b>5</b>	<b>6</b>	<b>7</b>	<b>8</b>	<b>9</b>	<b>10</b>
Raspuns corect	d	d	d	b	c	d	b	d	d	d

**Sub. II 20 p(4 x 5)**

1. Sinai
2. Suez
3. Roșie
4. scurtează distanța pe apă / evită ocolirea Africii

**din oficiu 20 p**