

CONCURSUL JUDEȚEAN DE GEOGRAFIE „IONEL ȚUȚĂ”

Ediția a V-a, 9 martie 2019, Clasa a V-a, Varianta 1

Subiectul I. 70 p (10 x 7)

1. În imaginea alăturată se observă:

- a. o constelație
- b. o galaxie
- c. Sistemul Solar
- d. o centură de asteroizi



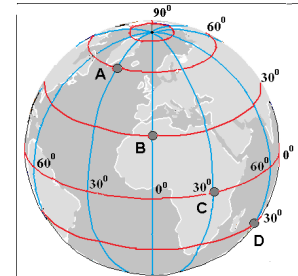
2. Direcția de rotație, sugerată de imagine este:

- a. Nord-Sud.
- b. Est-Vest
- c. Vest-Est
- d. Sud-Nord



3. Dintre punctele A, B, C și D, pe paralela de 0° este:

- a. A
- b. B
- c. C
- d. D



4. Articulația țărmului marcată cu numărul 1 este:

- a. strâmtoare
- b. insulă
- c. peninsulă
- d. golf



5. În fotografia alăturată, cu vulcan activ, săgeata indică:

- a. conul
- b. vatra
- c. coșul
- d. craterul



6. Fotografia arată consecința producerii:

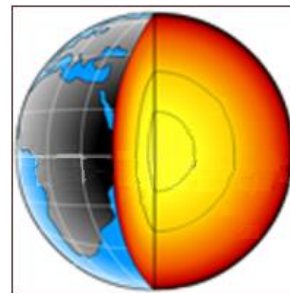
- a. unui tsunami
- b. unei erupții vulcanice



- c. unui cutremur
- d. unei prăbușiri

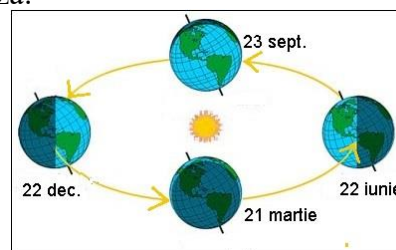
7. Imaginea sugerează faptul că Pământul are:

- a. mai multe continente
- b. mai multe învelișuri
- c. un relief diversificat
- d. mai multă apă decât uscat




8. Imaginea are legătură cu mișcarea de revoluție și înfățișează:

- a. Formarea zilelor și nopților
- b. Formarea continentelor și oceanelor
- c. Formarea anotimpurilor
- d. Formarea fuselor orare



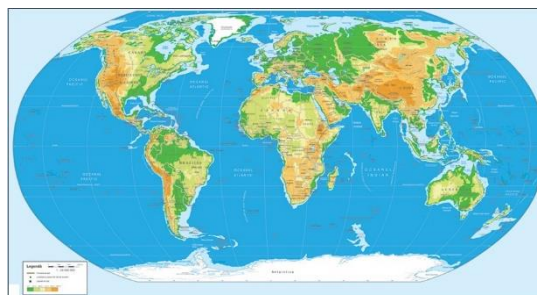
9. Vârful de munte din fotografie are:

- a. peste 10000 m
- b. aproape 9000 m
- c. fix 7000 m
- d. între 7000 m și 8000 m



10. Harta fizică a Lumii arată:

- a. Răspândirea cutremurelor
- b. Vegetația și fauna
- c. Formele de relief
- d. Fusele orare



Subiectul II. 20p (4 x 5)

Dacă am apropia America de Sud de Africa am observa că acestea se pot uni(lipi).

1. Scrieți ce sugerează această constatare.
2. Scrieți din ce motiv cele două continente nu sunt unul lângă altul.
3. Câte continente mai sunt în afară de cele două menționate?
4. Care este cel mai izolat dintre continente?

Din oficiu se acordă 10 p

CONCURSUL JUDEȚEAN DE GEOGRAFIE „IONEL ȚUȚĂ”
Ediția a V-a, 9 martie 2019

Clasa a V-a

BAREM DE CORECTARE ȘI EVALUARE

Sub. I. 70 p (10 x 7)

Nr.întrebare	1	2	3	4	5	6	7	8	9	10
Raspuns corect	d	c	c	a	d	C	b	c	b	c

Sub. II. 20 p (4 x 5)

1. faptul că au fost cândva unite /mișcarea plăcilor tectonice/ sau orice răspuns în acest sens
2. mișcarea plăcilor tectonice/ sunt pe plăci tectonice diferite
3. cinci
4. Antarctida/Antarctica

Oficiu 10 p