

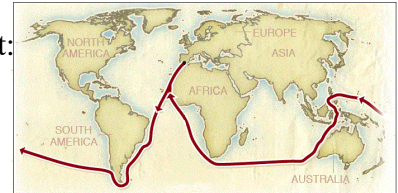
## CONCURSUL JUDEȚEAN DE GEOGRAFIE „IONEL ȚUȚĂ”

Ediția a V-a, 9 martie 2019, Clasa a VI-a, Varianta 1

### Subiectul I. 70 p (10 x 7)

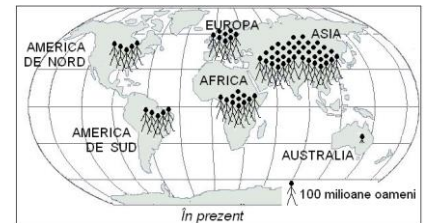
1. Călătoria lui Magellan, al cărei traseu apare pe hartă, a arătat:

- forma continentelor
- forma Pământului
- că sunt patru oceane
- că cel mai mare continent este Asia



2. Numărul populației Europei este de:

- 100 milioane
- 10 milioane
- 800 milioane
- 1 miliard



3. Pe harta alăturată sunt marcate resurse energetice din Europa. O constatare ar fi că acestea:

- sunt răspândite uniform
- sunt concentrate în zona de țărm
- lipsesc în centrul continentului
- sunt răspândite diferit



4. Imaginea are legătură cu mărimea scării de proporție.

La scară mare este:

- Harta Lumii
- Harta României
- Harta Orașului
- Harta Cartierului



5. Așezarea din fotografie este un:

- sat stup(sau cuib)
- sat adunat
- oraș
- sat de tip kraal



6. Resursa sugerată de fotografie se află:

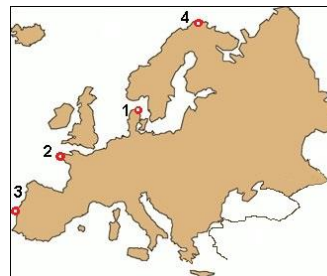
- în aer
- în apă



- c. la suprafață
- d. în subsol

7. Punctul extrem denumit Capul Roca este marcat cu numărul:

- a. 1
- b. 2
- c. 3
- d. 4



8. Peninsulei din imaginea alăturată îi este specific țărmul:

- a. de tip dalmatic
- b. cu fiorduri
- c. cu deltă
- d. cu poldere



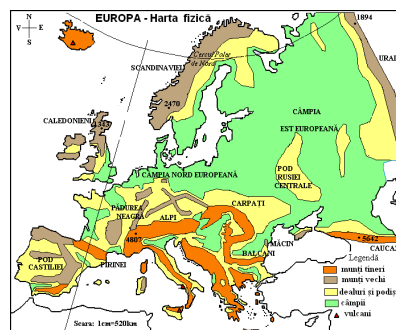
9. Pe Globul geografic se observă faptul că în vecinătatea Europei sunt continentele.

- a. Asia și Australia
- b. Africa și America de Sud
- c. Antarctica și America de Nord
- d. Asia și Africa



10. Harta fizică arată faptul că relieful Europei este:

- a. echilibrat ca pondere
- b. predominant muntos
- c. diversificat
- d. așezat simetric față de meridianul de 0°



## Subiectul II. 20 p (4 x 5)

Pe baza textului răspundeți la cerințe.

În sudul Europei sunt vulcani activi. Unul dintre aceștia este situat în Peninsula Italică iar altul pe o insulă mare din vecinătate. În jurul acestor vulcani activi trăiesc mulți oameni.

1. Scrieți numele celor doi vulcani.
2. Scrieți numele vulcanului care se află în Peninsula Italică
3. Scrieți numele insulei mari pe care se află celălalt vulcan.
4. Cărui fapt se datorează populația numeroasă din vecinătatea lor?

**Din oficiu se acordă 10 p**

CONCURSUL DE GEOGRAFIE „IONEL ȚUȚĂ”  
Ediția a V-a, 9 martie 2019

Clasa a VI-a

BAREM DE CORECTARE ȘI EVALUARE

**Sub. I 70 p (10 x 7)**

Nr. întrebare	<b>1</b>	<b>2</b>	<b>3</b>	<b>4</b>	<b>5</b>	<b>6</b>	<b>7</b>	<b>8</b>	<b>9</b>	<b>10</b>
Raspuns corect	b	c	d	d	c	d	c	b	d	c

**Sub. II 20 p (4 x 5)**

1. Vezuviu și Etna
2. Vezuviu
3. Sicilia
4. solurilor fertile

**din oficiu 10 p**