

Question: 1 of 15

QID: 133

Marks: 1

La vulcanul din imagine se observă:



- A. curgeri de nori
- B. gaze toxice
- C. cenușă
- D. lavă

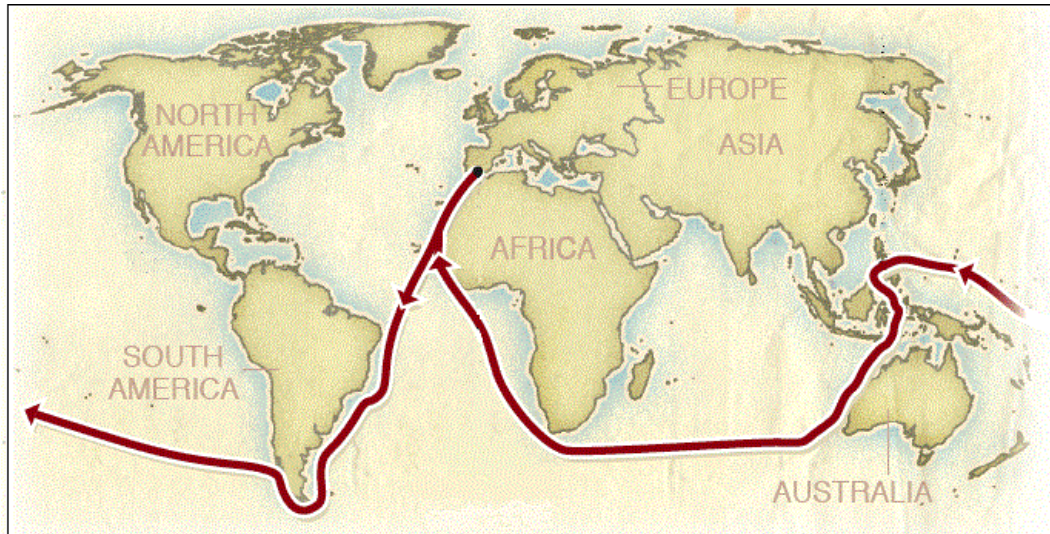
În imagine este:



- A. o strâmtoare
- C. o peninsulă

- B. un arhipelag
- D. un istm

Harta arată călătoria lui Magellan. Aceasta a demonstrat:



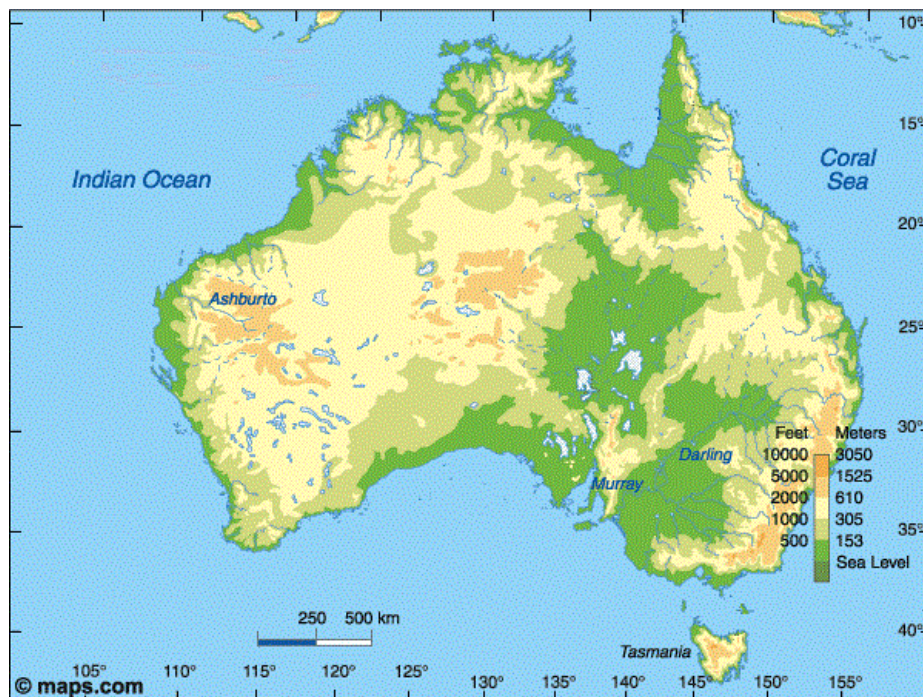
- A. turtirea la poli
 B. forma sferică
 C. înclinarea axei
 D. existența celor 7 continente

Question: 4 of 15

QID: 131

Marks: 1

Relieful continentului de pe hartă este:



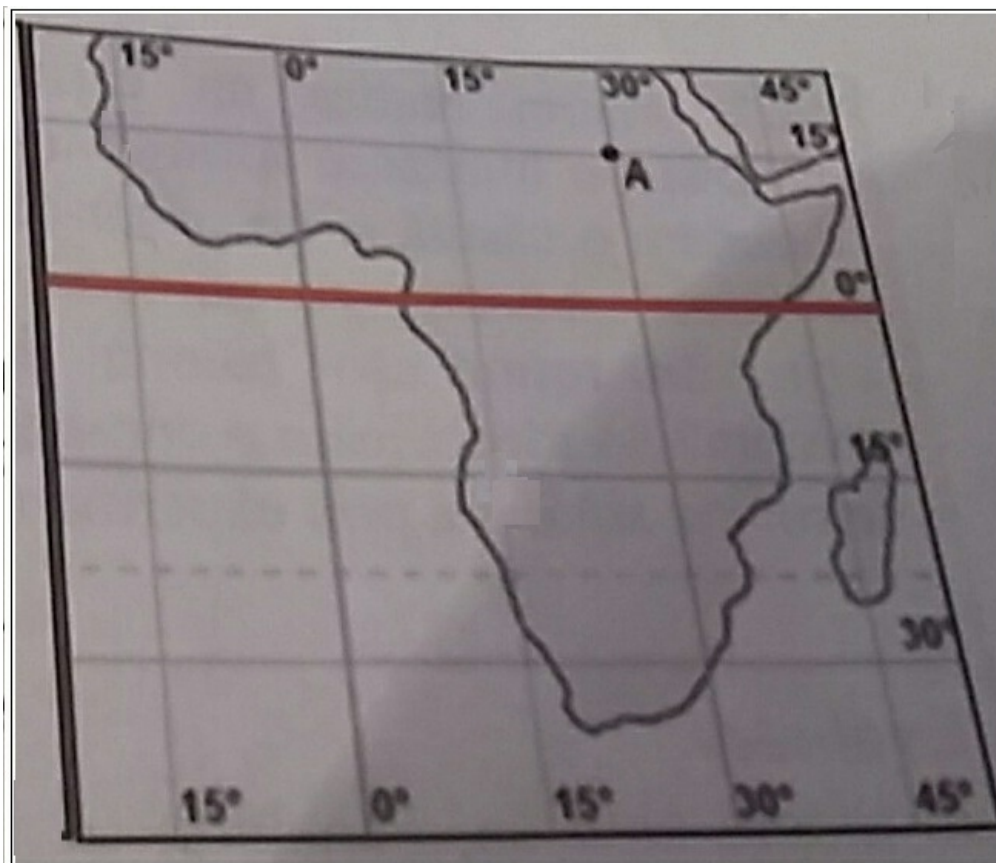
- A. diversificat și predomină podișul
 B. uniform și cu înălțimi mici
 C. uniform și cu înălțimi mari
 D. diversificat și predomină munții

Localitatea Mihăilești este față de București spre:




- A. sud-est
- B. sud
- C. nord
- D. sud-vest

Punctul A are:



- A. 30° latitudine sudică
- B. 15° longitudine estică
- C. 30° longitudine vestică
- D. 15° latitudine nordică

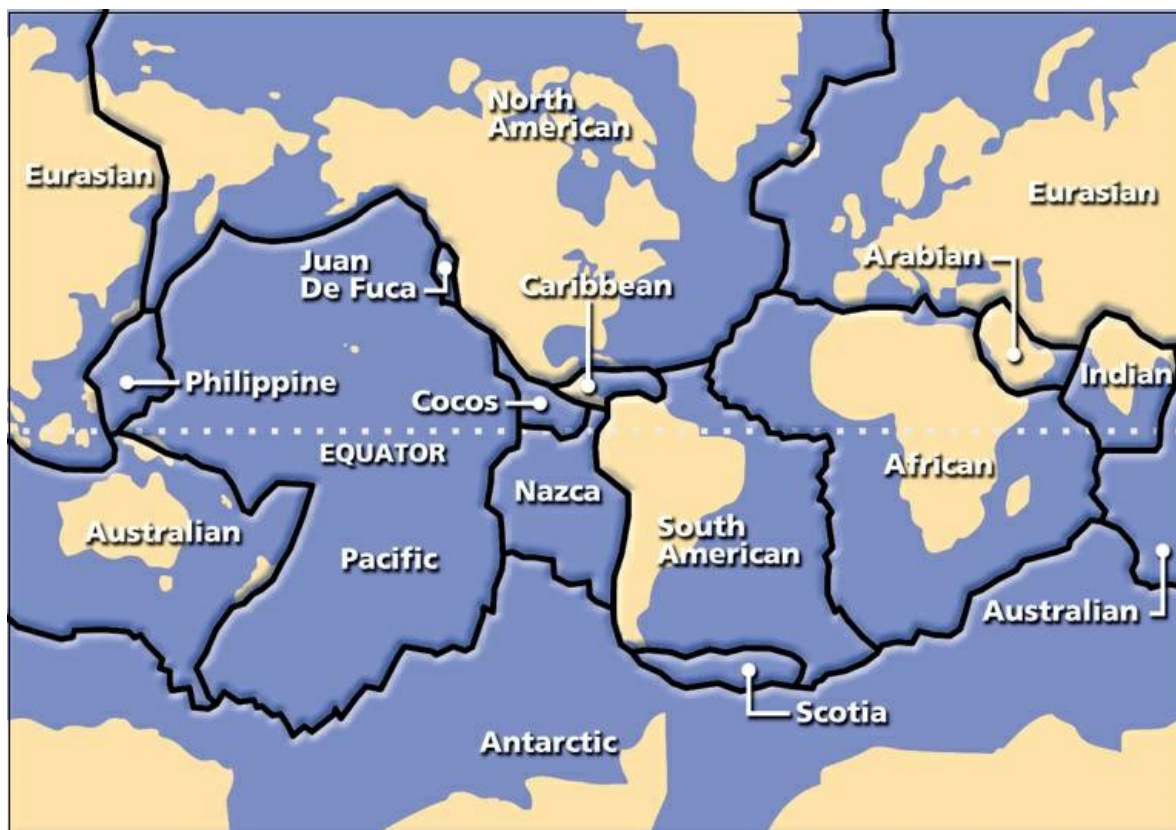
Formele de relief A și B din imagine sunt:



- A. deal și podiș
 C. câmpie și deal


- B. podiș și munte
 D. deal și munte

Jocul de puzzle din imagine are ca temă:



- A. plăcile tectonice
- B. formele de relief
- C. continentele și oceanele
- D. fusele orare

In imaginea cu Sistemul Solar săgeata indică:



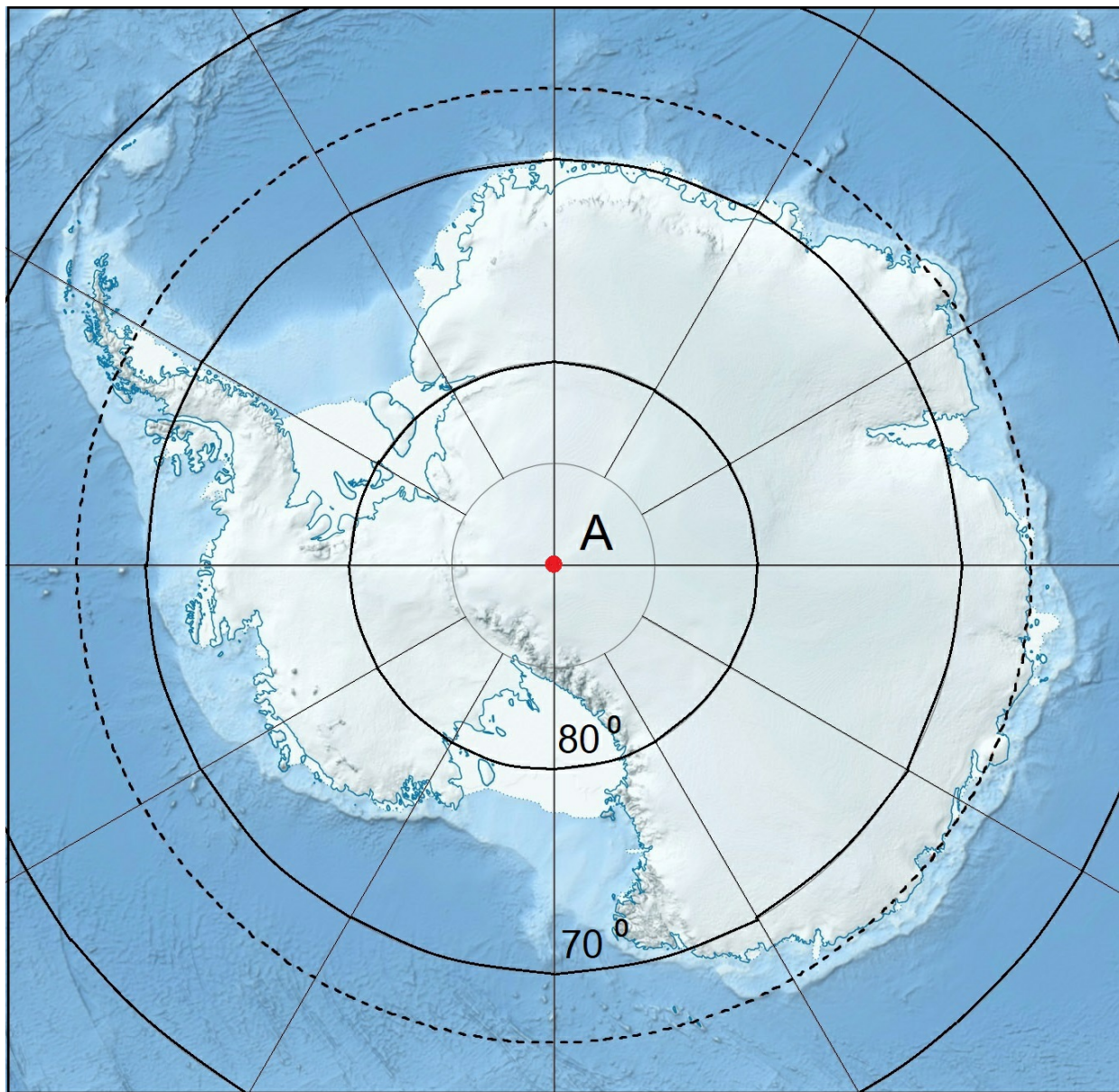
A. sateliți naturali

B. planete

C. comete

D. asteroizi

Punctului A îi corespund:



- A. 90° longitudine vestică
- C. 90° latitudine sudică


- B. 90° latitudine nordică
- D. 90° longitudine estică

Question: 11 of 15

QID: 123

Marks: 1

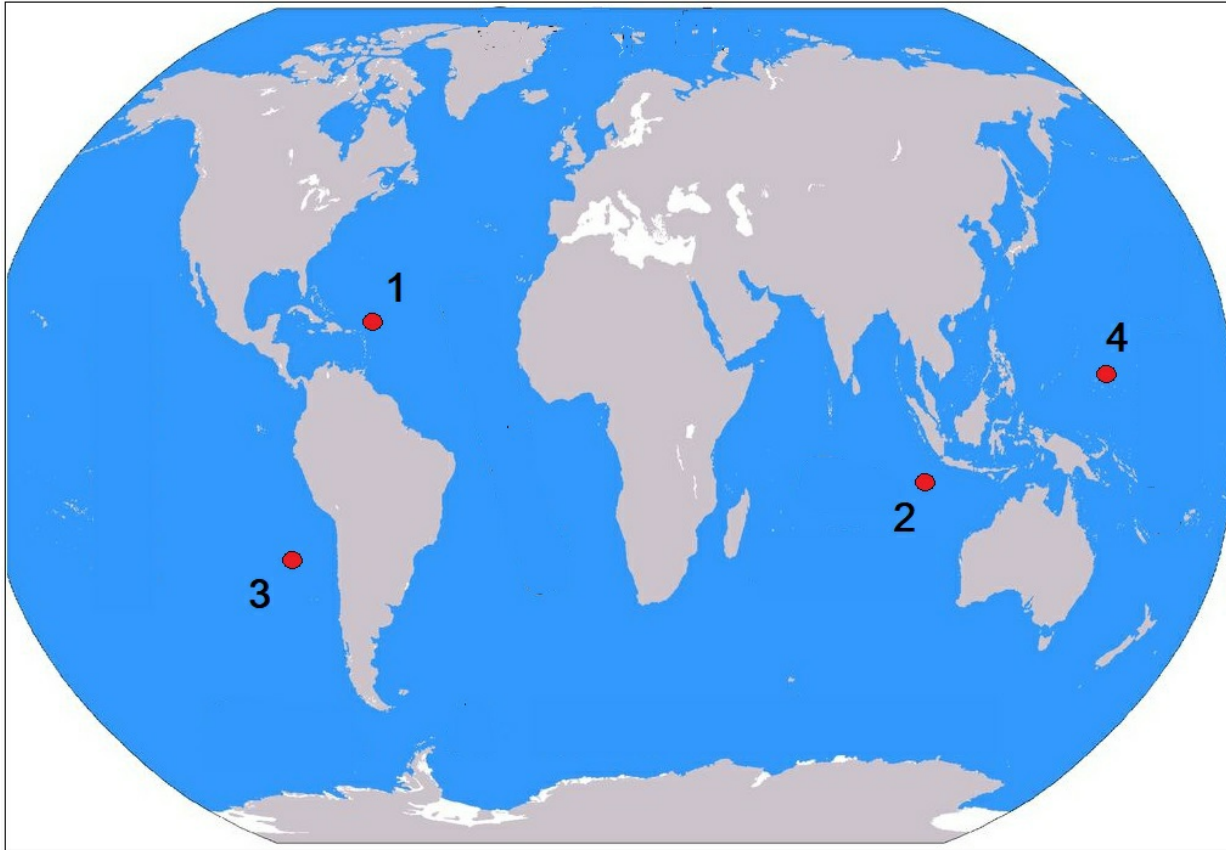
În imagine se observă:



- A. o eclipsă de soare
- C. o gaură neagră

- B. o eclipsă de lună
- D. planetele Pământ și Mercur

Cel mai adânc loc din oceane, Groapa Mariane, corespunde punctului:



A. 1

B. 2

C. 4

D. 3

Question: 13 of 15

QID: 120

Marks: 1

De pe harta alăturată lipsește continentul:



A. Africa

B. Asia

C. Antarctica

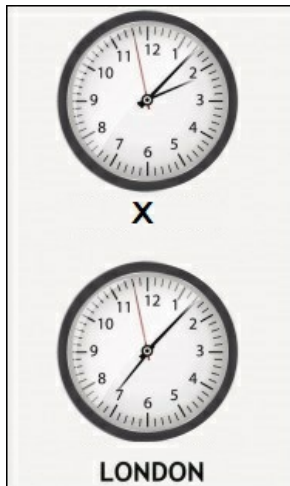
D. Australia

Globul din imagine arată:



- A. existența zilelor și a nopților
 B. fusele orare
- C. emisferele nordică și sudică
 D. înclinarea axei polilor

În orașul Londra este ziua. În orașul X este noapte pentru că se află:



- A. cu 5 fuse orare spre vest de Londra
 B. cu 7 fuse orare spre est de Londra
- C. în același fus orar cu Londra
 D. în emisfera sudică

--- END OF QUESTION PAPER ---

Answer Key

No	Question Type	QID	Correct Answer
Question - 1	Multiple Choice (Radiobutton)	133	C
Question - 2	Multiple Choice (Radiobutton)	134	B
Question - 3	Multiple Choice (Radiobutton)	124	B
Question - 4	Multiple Choice (Radiobutton)	131	A
Question - 5	Multiple Choice (Radiobutton)	126	D
Question - 6	Multiple Choice (Radiobutton)	121	D
Question - 7	Multiple Choice (Radiobutton)	128	D
Question - 8	Multiple Choice (Radiobutton)	132	A
Question - 9	Multiple Choice (Radiobutton)	122	D
Question - 10	Multiple Choice (Radiobutton)	127	C
Question - 11	Multiple Choice (Radiobutton)	123	A
Question - 12	Multiple Choice (Radiobutton)	130	C
Question - 13	Multiple Choice (Radiobutton)	120	C
Question - 14	Multiple Choice (Radiobutton)	129	C
Question - 15	Multiple Choice (Radiobutton)	125	A

--- END OF ANSWER KEY ---