

Question: 1 of 15

QID: 145

Marks: 1

Priviți atent imaginea și alegeți răspunsul corect privind scopul pasajului peste autostrada:



- A. reducerea zgomotului
- B. decor
- C. traversare viețuitoare sălbatice
- D. traversare pietoni

Centrul Piteștiului arată preocuparea pentru:



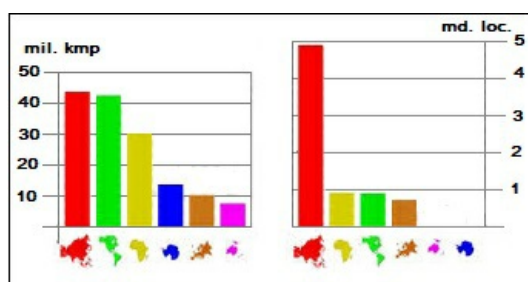
- A. conservarea clădirilor vechi
 B. descongestionarea traficului
- C. recreere și aspect peisagistic
 D. smart city

Question: 3 of 15

QID: 146

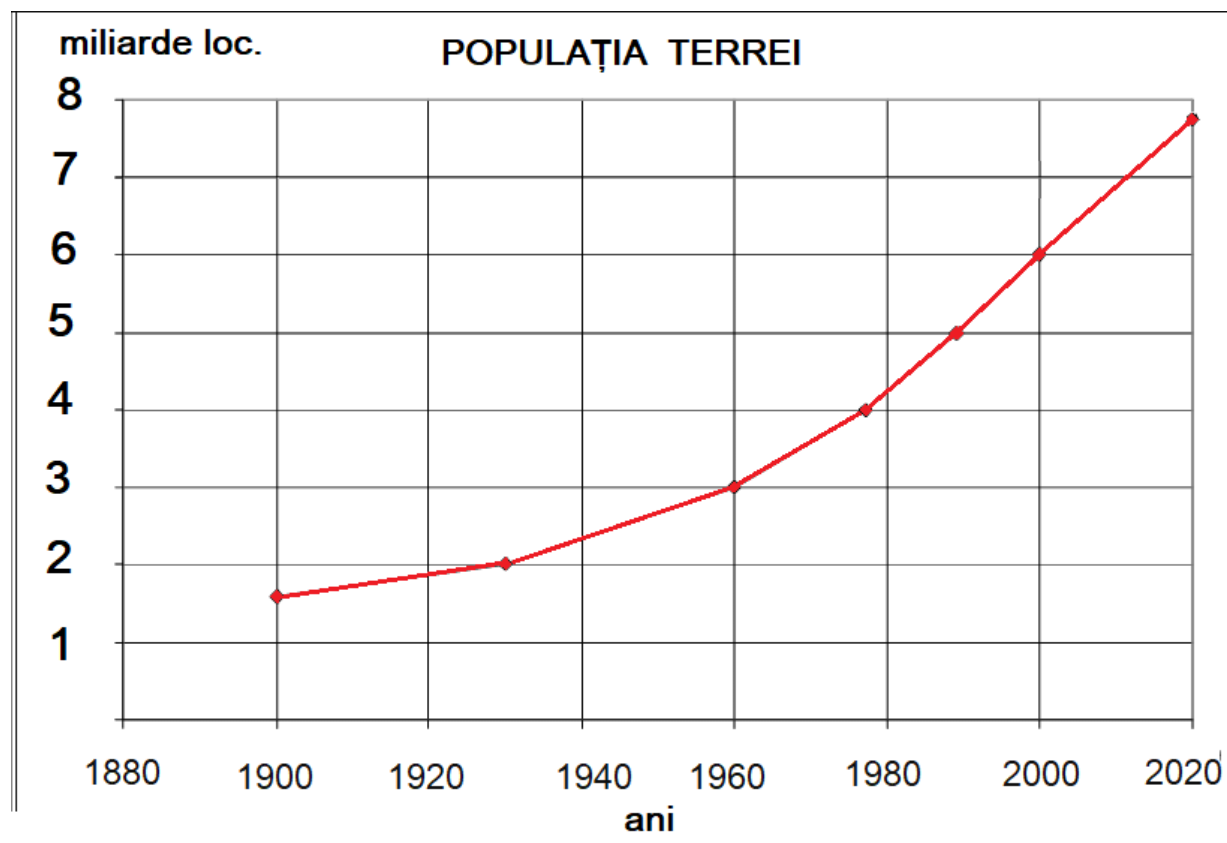
Marks: 1

Informațiile corecte pentru continentul Africa sunt:



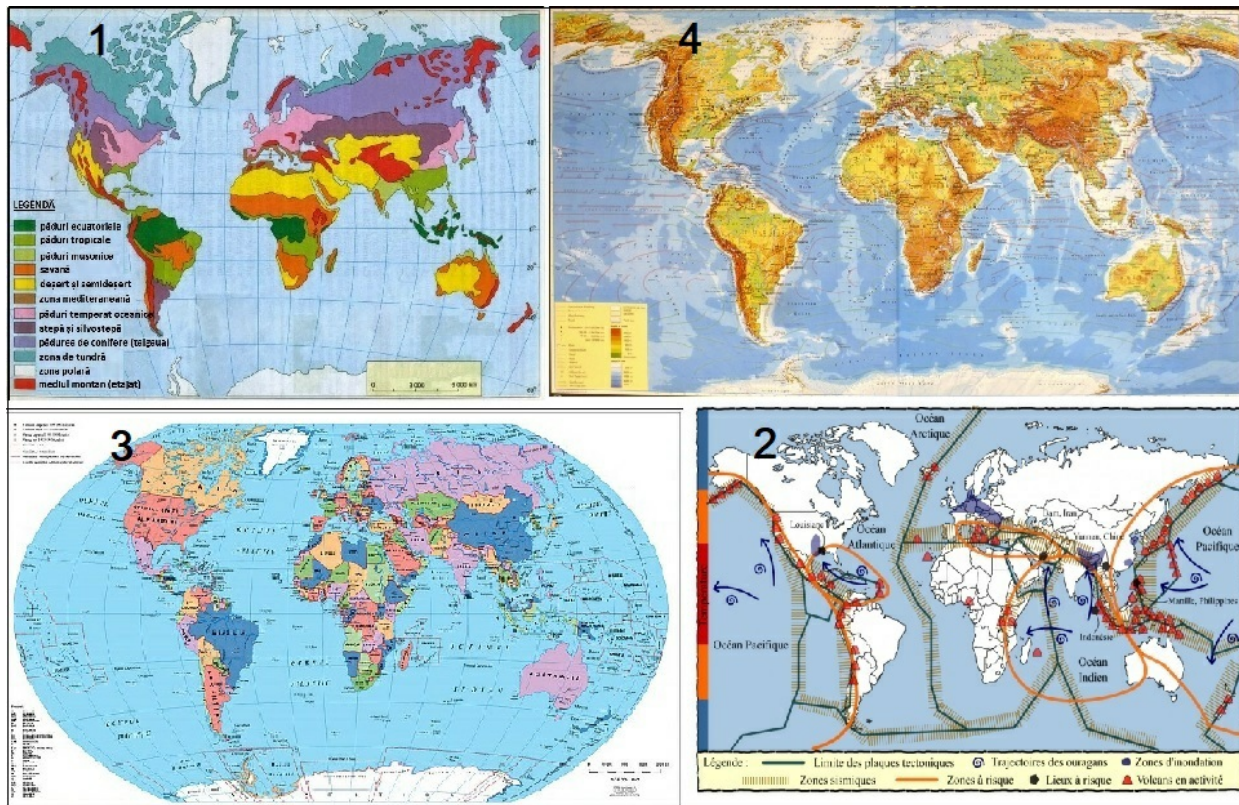
- A. suprafața 900 mil. loc, populație 30 mil. km²
 B. suprafața 42 mil km², populație 4,8 md. loc.
- C. suprafața 30 mil km², populație 900 mil. loc.
 D. suprafața 44 mil km², populație 700 mil. loc

Populația Terrei a înregistrat în perioada 1900-2020 următoarea evoluție:



- A. creștere de la 1,7 miliarde la 6 miliarde
- B. scădere de la 6 miliarde la 1,7 miliarde
- C. scădere de la 7,7 miliarde la 1,7 miliarde
- D. creștere de la 1,7 miliarde la 7,7 miliarde

Stările lumii apar pe harta cu numărul:



- A. 4
- C. 2

- B. 3
- D. 1

Imaginea sugerează sectorul de activitate:



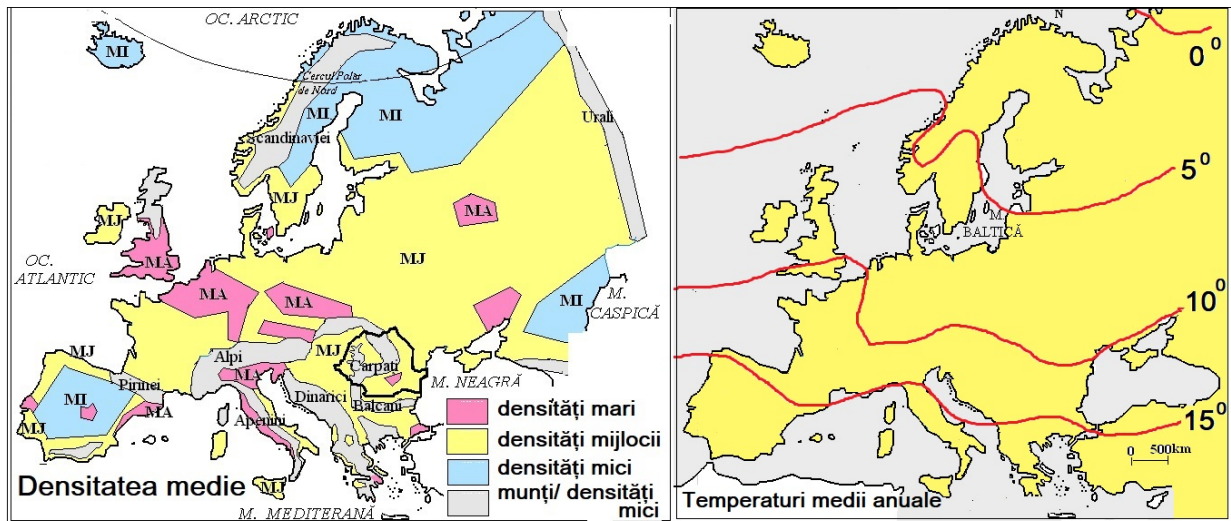
- A. primar
 B. terțiar
- C. secundar
 D. cuaternar

Question: 7 of 15

QID: 141

Marks: 1

Comparând cele două hărți descoperiți cum este densitatea medie în intervalul 0-5° și alegeți corect cauza:



- A. temperaturile ridicate
 B. temperaturile scăzute
- C. migrațiile
 D. mortalitatea ridicată

Imaginea sugerează



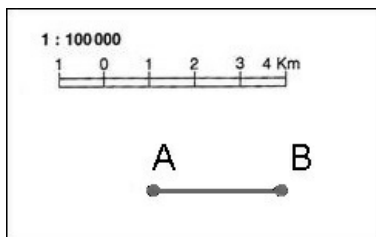
- A. creșterea numerică a populației
 B. poluare
- C. încălzire climatică
 D. epuizarea resurselor

Question: 9 of 15

QID: 137

Marks: 1

Distanța între punctele A și B este de:



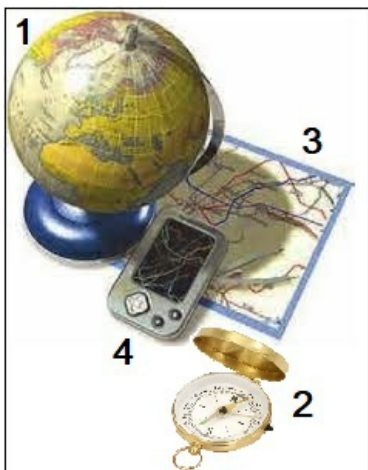
- A. 4 km
 B. 1 km
- C. 3 km
 D. 5 km

Question: 10 of 15

QID: 135

Marks: 1

În imagine sunt mijloace de orientare. Dintre acestea folosește câmpul magnetic:



- A. 4
 B. 2
- C. 3
 D. 1

Resursa sugerată de imagine este:



- A. energia vântului
- B. sarea
- C. apa
- D. petrolul

In imagine este surprinsă poluarea:



- A. aerului
- B. apei
- C. solului
- D. fonică

Imaginea sugerează:



- A. numai populație vârstnică
- B. numai populație adultă
- C. numai populație tânără
- D. populație din toate grupele de vârstă

Question: 14 of 15

QID: 142

Marks: 1

Satul din imagine este de tip:



- A. risipit
- B. răsfirat
- C. liniar
- D. adunat

Resursa din fotografie este:



- A. de subsol din câmpie
- B. de suprafață din munți
- C. forestieră din dealuri
- D. de subsol din munți

— END OF QUESTION PAPER —

Answer Key

No	Question Type	QID	Correct Answer
Question - 1	Multiple Choice (Radiobutton)	145	C
Question - 2	Multiple Choice (Radiobutton)	148	C
Question - 3	Multiple Choice (Radiobutton)	146	C
Question - 4	Multiple Choice (Radiobutton)	139	D
Question - 5	Multiple Choice (Radiobutton)	136	B
Question - 6	Multiple Choice (Radiobutton)	149	D
Question - 7	Multiple Choice (Radiobutton)	141	B
Question - 8	Multiple Choice (Radiobutton)	138	C
Question - 9	Multiple Choice (Radiobutton)	137	C
Question - 10	Multiple Choice (Radiobutton)	135	B
Question - 11	Multiple Choice (Radiobutton)	147	D
Question - 12	Multiple Choice (Radiobutton)	143	B
Question - 13	Multiple Choice (Radiobutton)	140	C
Question - 14	Multiple Choice (Radiobutton)	142	C
Question - 15	Multiple Choice (Radiobutton)	144	D

--- END OF ANSWER KEY ---