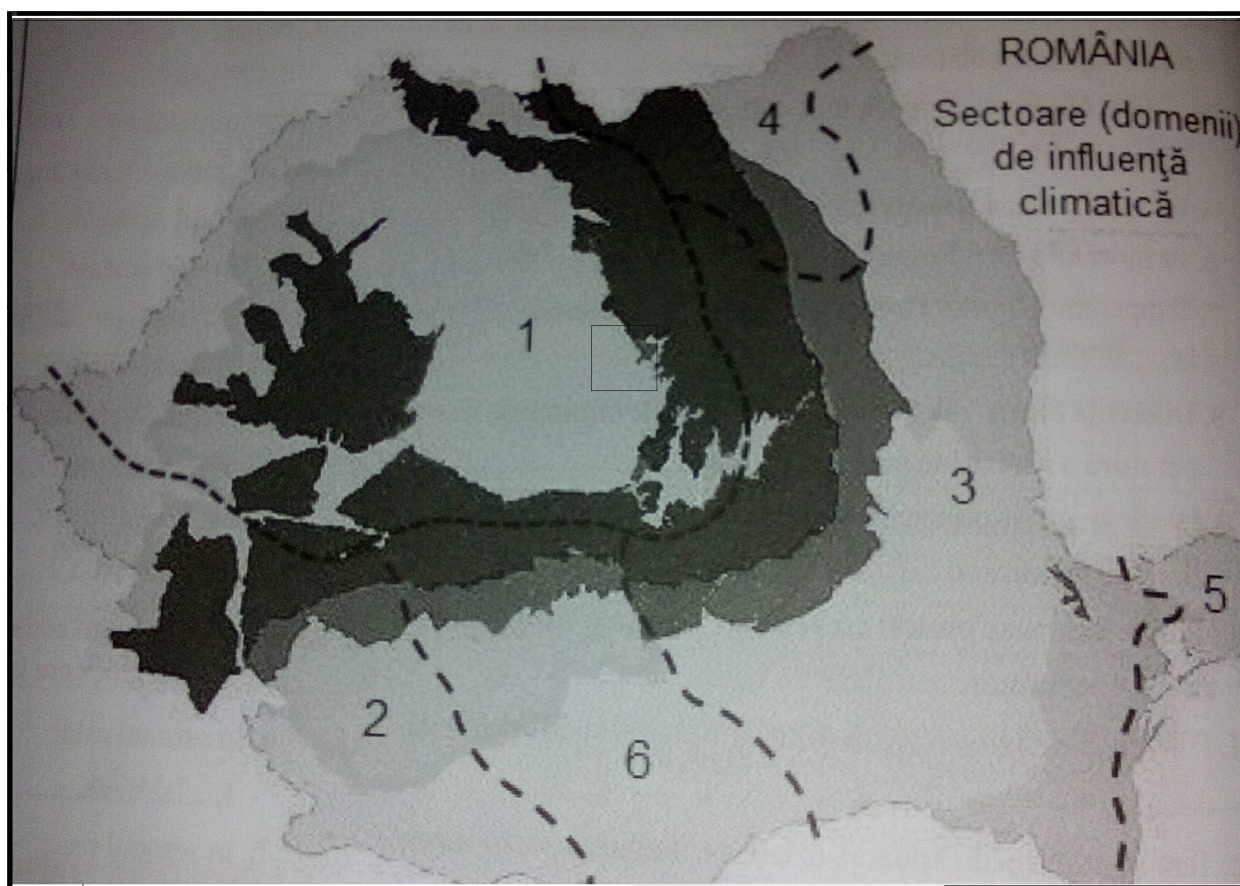


Question: 1 of 15

QID: 178

Marks: 1

Pe hartă, sectorului cu influențe climatice de tranziție îi corespunde numărul:



A. 2

B. 4

C. 6

D. 5

Harta arată că România este țară:



- A. latină
 B. carpatică, dunăreană și pontică
- C. central europeană
 D. mijlocie

Question: 3 of 15

QID: 173

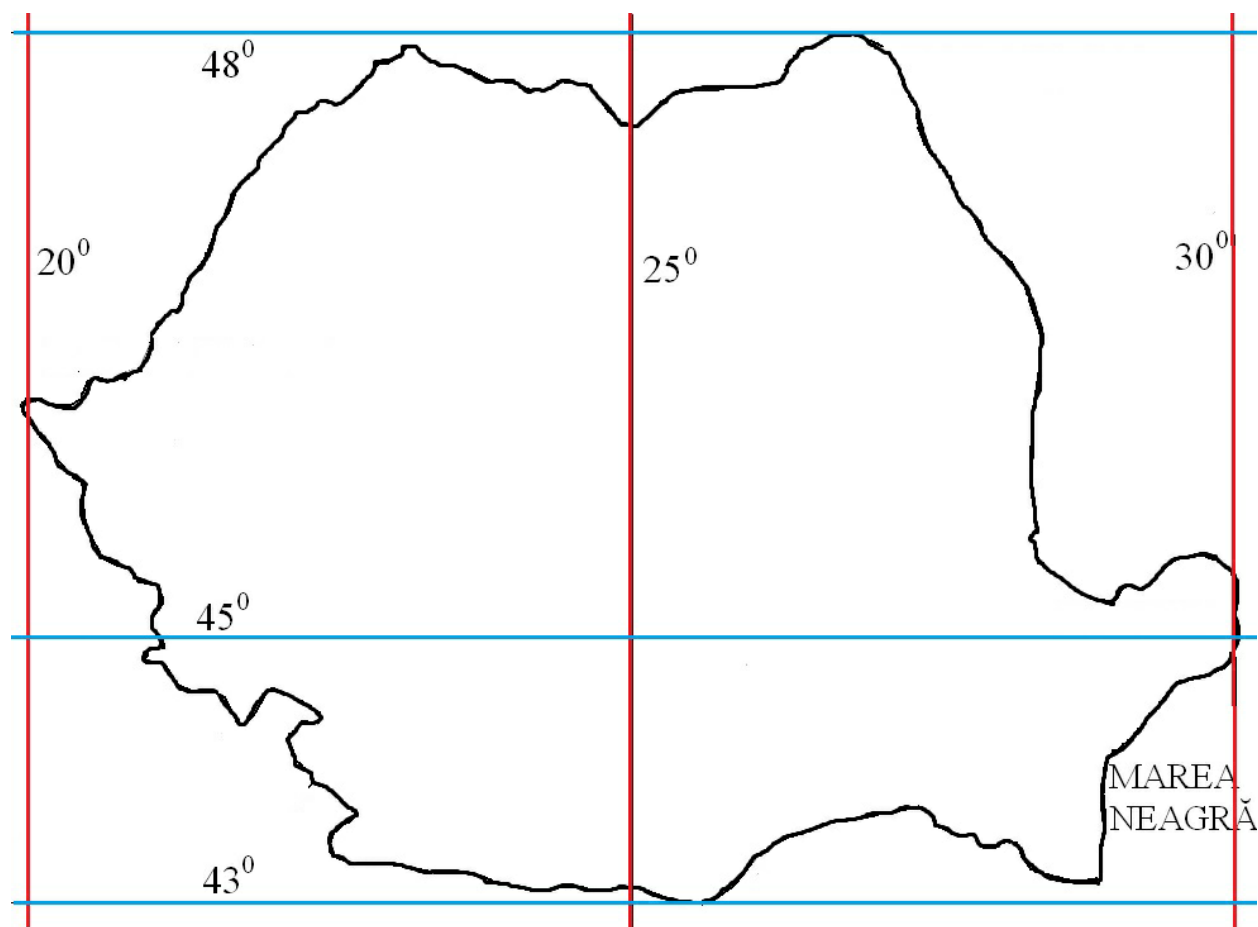
Marks: 1

În imagine se observă un sat aflat pe o culme montană netedă. Acest aspect constituie o caracteristică pentru:



- A. grupa Sudică
 B. grupa Nordică
- C. grupa bucegi
 D. grupa Apuseni

Folosind harta, se constată că teritoriul țării se desfășoară pe:



A. 5° latitudine

B. 8° longitudine

C. 8° latitudine

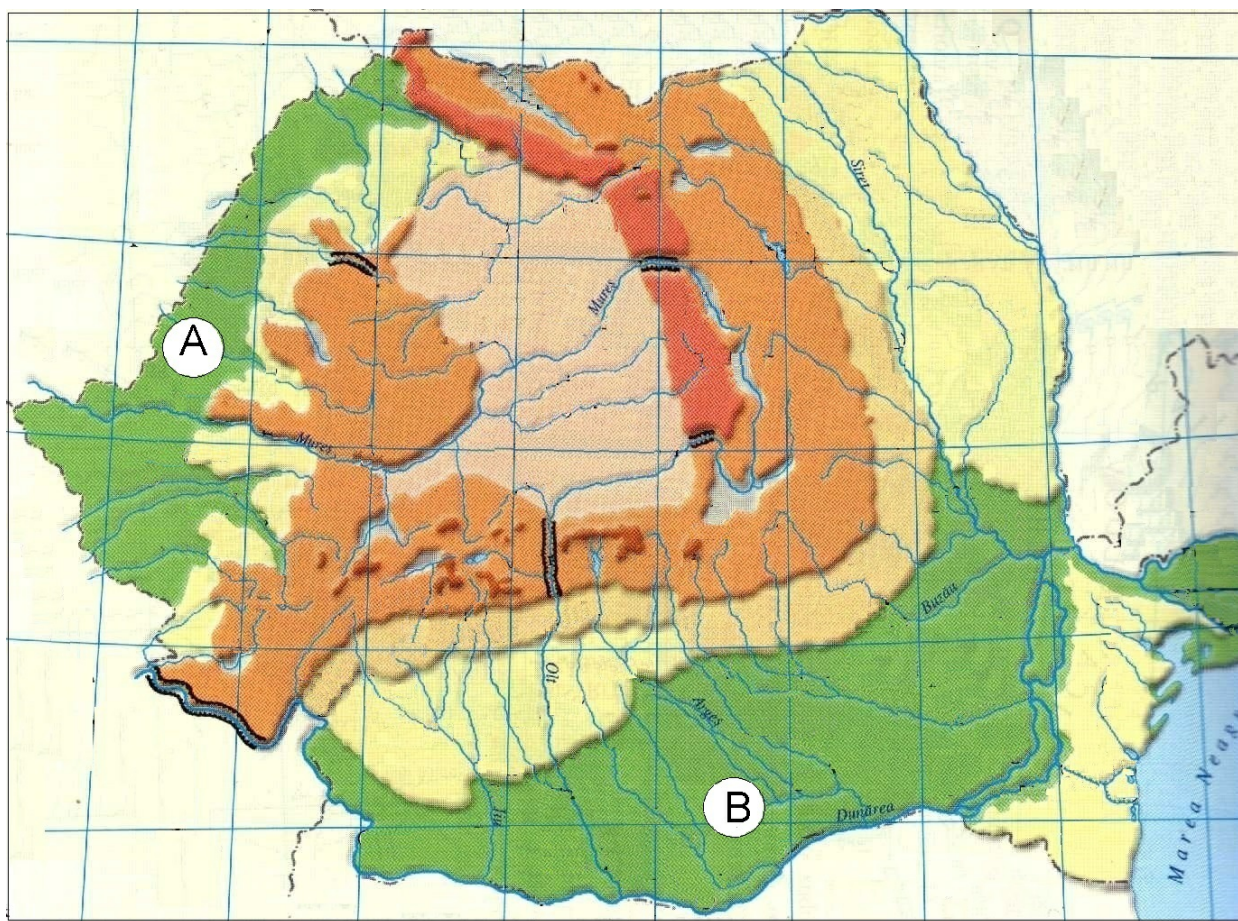
D. 10° latitudine

Pe fragmentul de hartă apare un semn convențional marcat cu 1. Acesta indică:



- A. relief glaciar B. relief petrografic
 C. relief vulcanic D. relief litoral

Unitățile de relief marcate cu A și B pe Harta fizică a României au în comun:



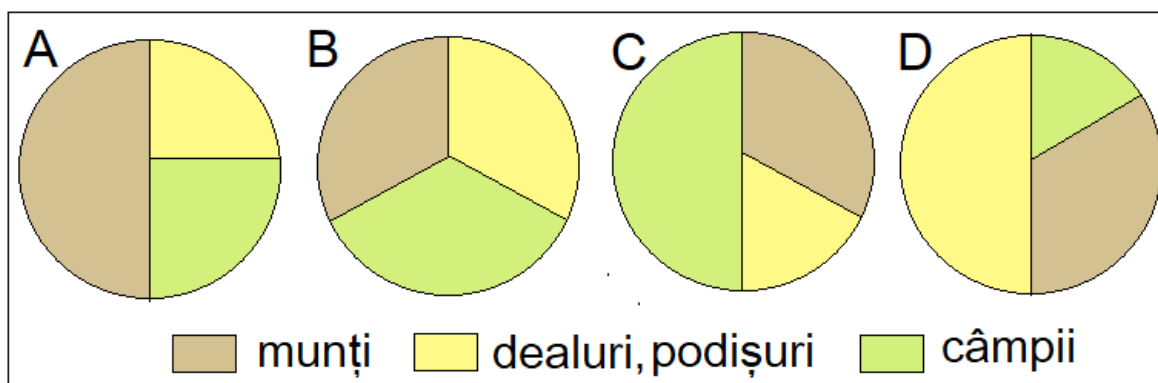
- A. înălțimile peste 200 m
 B. formarea prin depunere de sedimente
- C. înclinarea est-vest a reliefului
 D. formarea peste un fundament carpatic scufundat

Question: 7 of 15

QID: 168

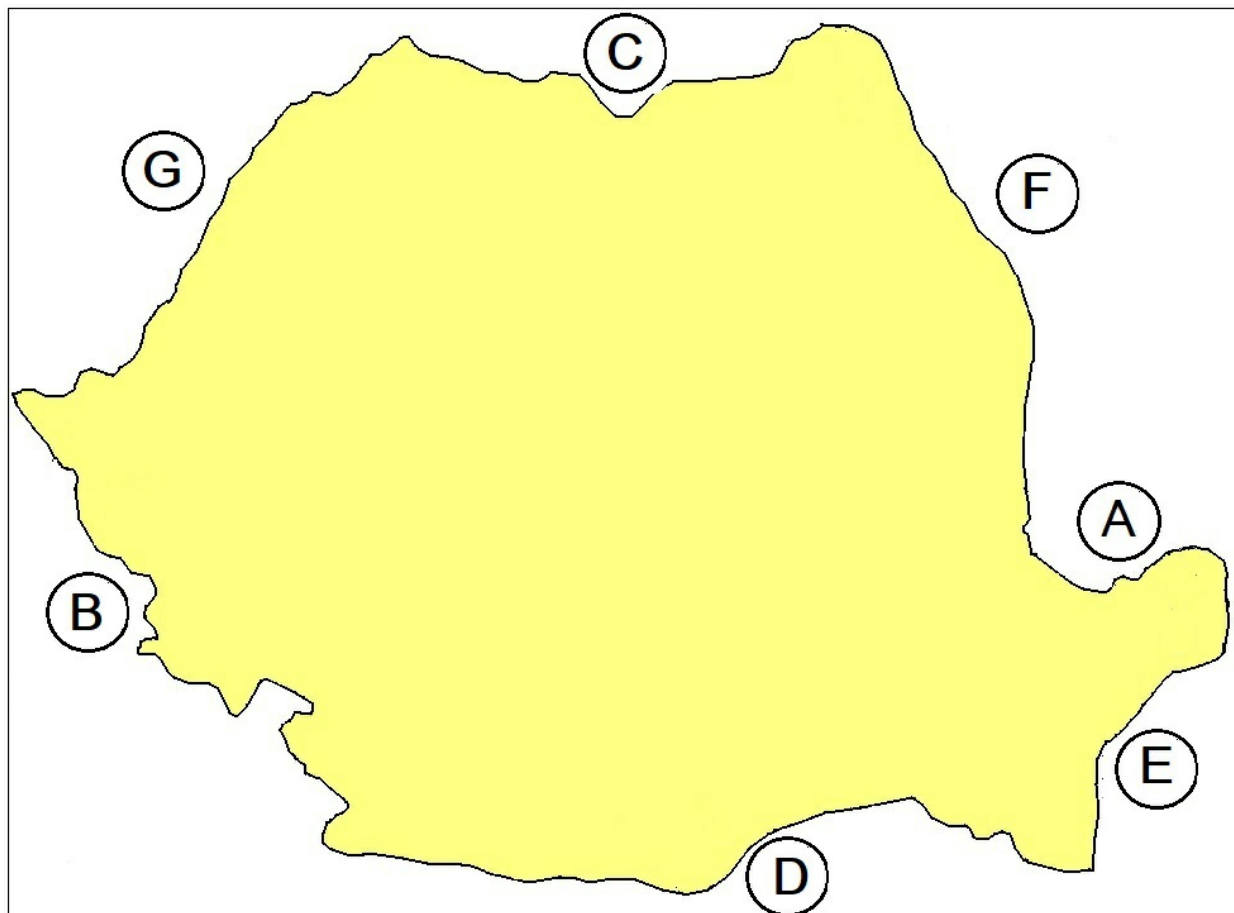
Marks: 1

Caracteristica reliefului României numită proporționalitate se regăsește în desenul:



- A. C
 B. D
- C. A
 D. B

România are același vecin în:



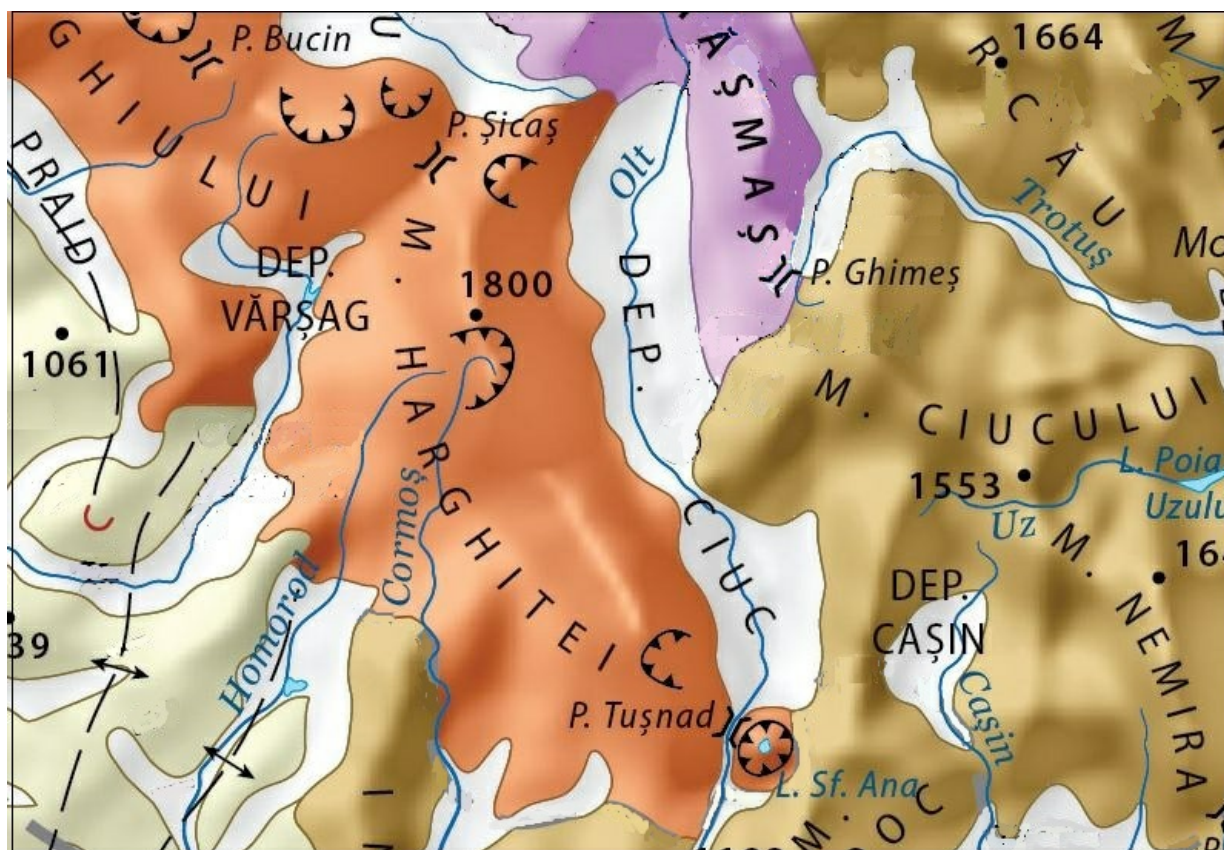
A. C și F

B. A și C

C. A și F

D. B și D

Pe fragmentul de hartă, pentru munți s-au folosit trei culori diferite. Acest aspect sugerează:



- A. așezarea în șiruri B. modul de formare diferit
 C. înălțimea diferită D. rocile diferite

Unitatea de relief căreia îi corespunde înălțimea maximă din imagine se numește:



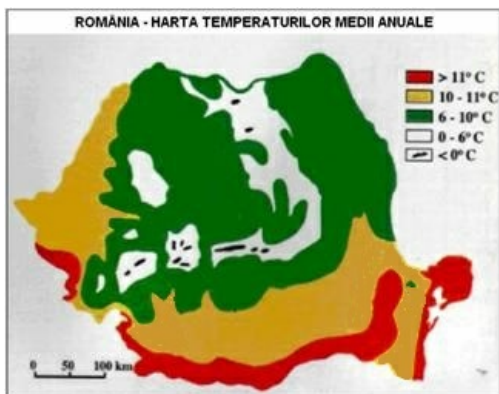
- A. Podișul Dobrogei
 B. Dealurile de Vest
- C. Podișul Mehedinți
 D. Munții Poiana Ruscă

Question: 11 of 15

QID: 175

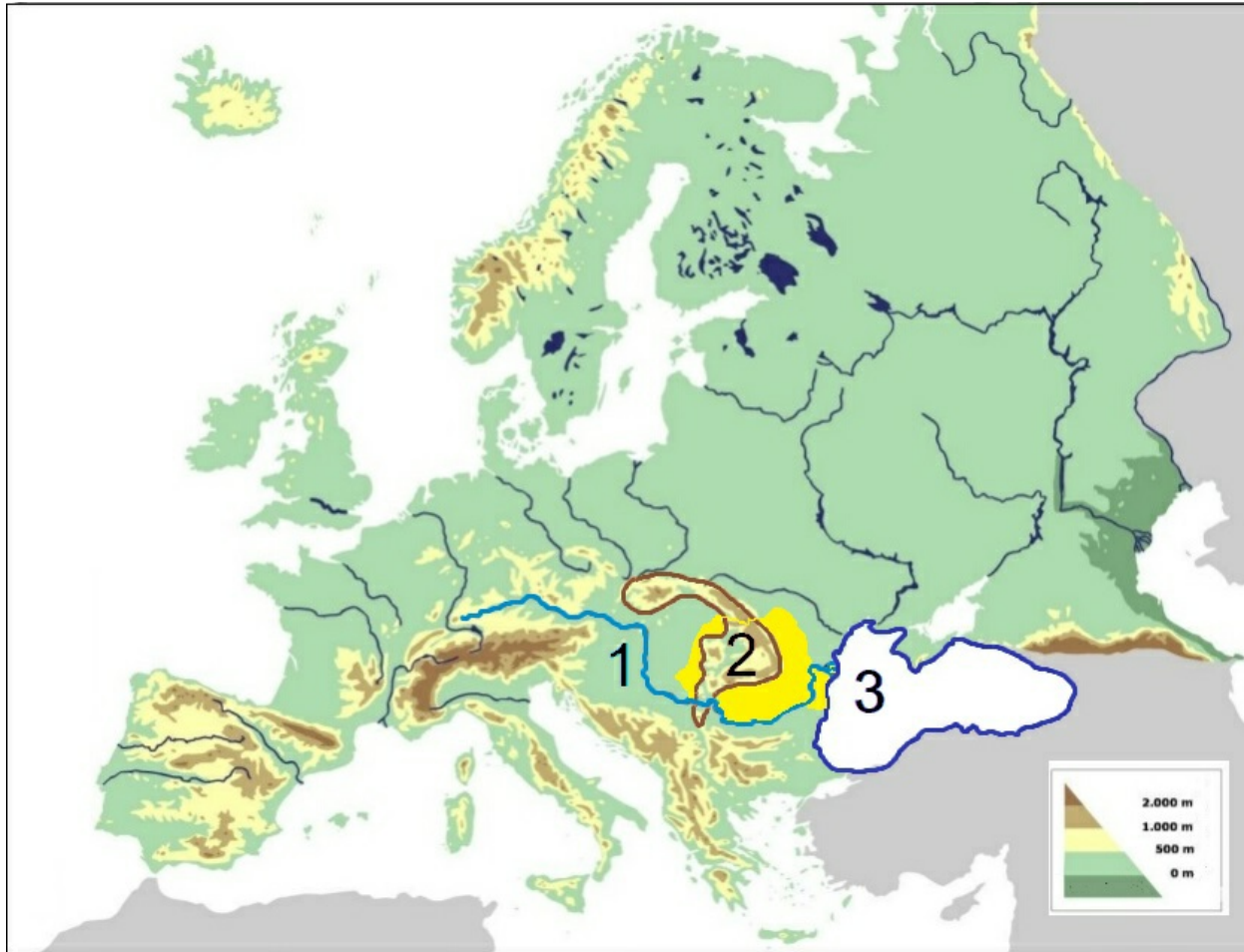
Marks: 1

Privind harta se constată că temperatura medie anuală:



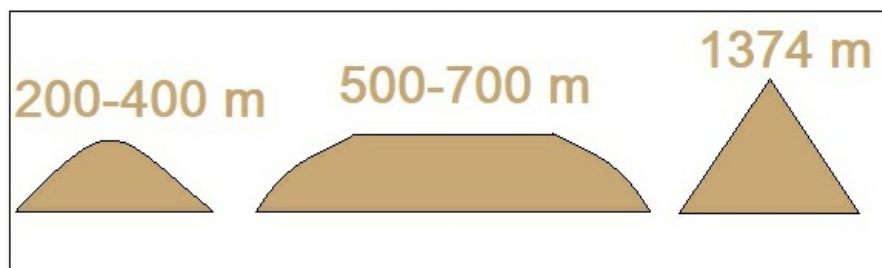
- A. scade de la nord la sud
 B. este constantă pe teritoriul țării
- C. scade cu altitudinea
 D. crește de la vest la est

Cu 1, 2 și 3, în ordinea de pe hartă, sunt cele trei repere geografice ale României și anume:



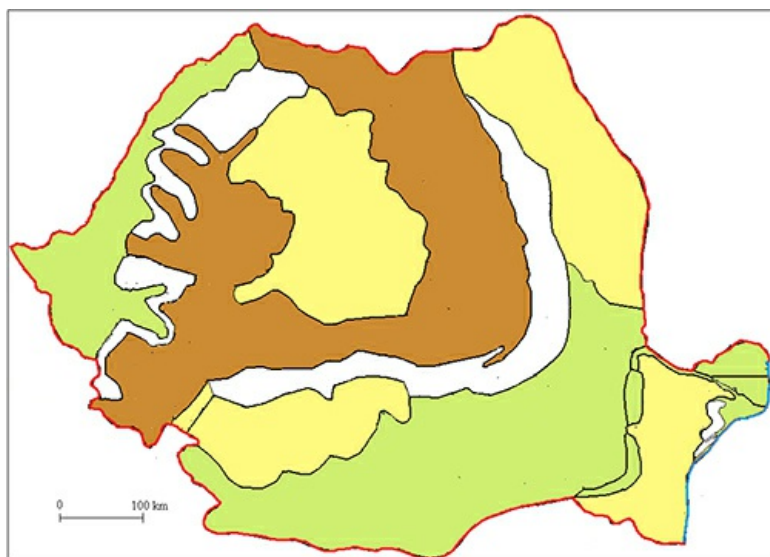
- A. Marea Neagră, Munții Carpați, fluviul Dunărea
 B. Munții Carpați, fluviul Dunărea, Marea Neagră
 C. fluviul Dunărea, Marea Neagră, Munții Carpați
 D. fluviul Dunărea, Munții Carpați, Marea Neagră

Pe schiță apar altitudinile următoarelor unități de relief:



- A. Dealurile de Vest, Podișul Getic, Munții Apuseni
 B. Subcarpați, Podișul Moldovei, Munții Măcin
 C. Podișul Dobrogei, Dealurile de Vest, Munții Banatului
 D. Dealurile de Vest, Podișul Mehedinți, Munții Poiana Ruscă

Pe harta României, nu este colorată forma de relief:



- A. câmpie
- B. munte
- C. deal
- D. deltă

Question: 15 of 15

QID: 171

Marks: 1

Pe harta cu Delta Dunării culoarea galben indică:



- A. suprafețe agricole
- B. mlaștini
- C. brațele Dunării
- D. grinduri

— END OF QUESTION PAPER —

Answer Key

No	Question Type	QID	Correct Answer
Question - 1	Multiple Choice (Radiobutton)	178	C
Question - 2	Multiple Choice (Radiobutton)	165	C
Question - 3	Multiple Choice (Radiobutton)	173	D
Question - 4	Multiple Choice (Radiobutton)	166	A
Question - 5	Multiple Choice (Radiobutton)	170	A
Question - 6	Multiple Choice (Radiobutton)	176	B
Question - 7	Multiple Choice (Radiobutton)	168	D
Question - 8	Multiple Choice (Radiobutton)	179	B
Question - 9	Multiple Choice (Radiobutton)	177	D
Question - 10	Multiple Choice (Radiobutton)	167	A
Question - 11	Multiple Choice (Radiobutton)	175	C
Question - 12	Multiple Choice (Radiobutton)	169	D
Question - 13	Multiple Choice (Radiobutton)	174	D
Question - 14	Multiple Choice (Radiobutton)	172	C
Question - 15	Multiple Choice (Radiobutton)	171	D

--- END OF ANSWER KEY ---