


Question: 1 of 15

QID: 188

Marks: 1

Formele de relief A și B din imagine sunt:



A. podiș și munte

B. deal și podiș

C. deal și munte

D. câmpie și deal

Pe hartă săgeata indică:



- A. câmpie abisală
- B. platformă continentală
- C. dorsală
- D. fosă/groapă abisală

Question: 3 of 15

QID: 192


Marks: 1

La vulcanul din imagine se observă:



- A. cenușă
- B. bombe vulcanice
- C. lavă
- D. gaze toxice

Dintre scările de proporție de pe schiță, mai multe detalii oferă:



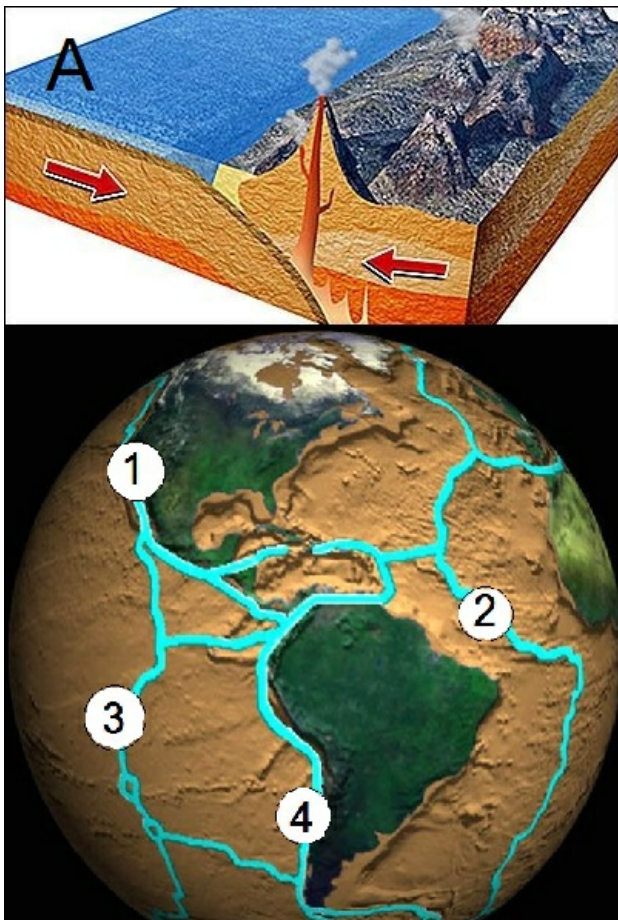
- A. scara 4
- B. scara 2
- C. scara 1
- D. scara 3

Question: 5 of 15

QID: 181

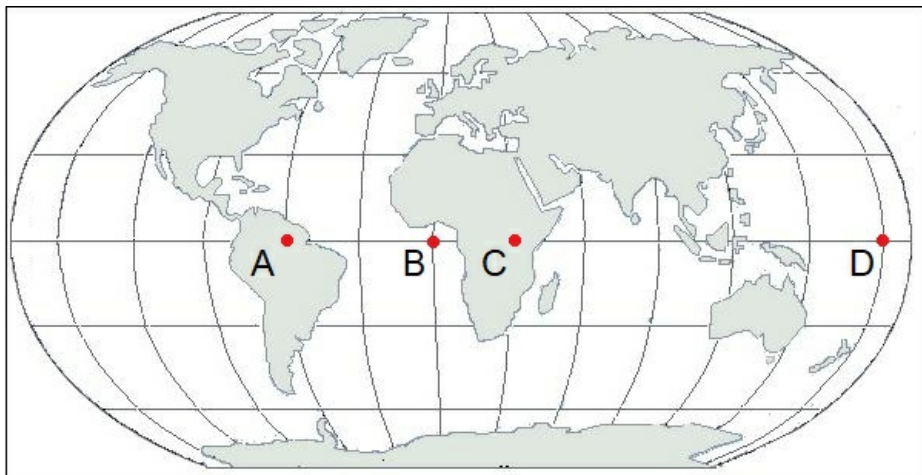
Marks: 1

Schița A se potrivește pe glob cu punctul:



- A. 3
- B. 4
- C. 2
- D. 1

Meridianul de 0° se intersectează cu paralela de 0° în punctul:



A. C

B. B

C. D

D. A

Question: 7 of 15

QID: 189

Marks: 1

La polul sud este lumină în intervalul:



- A. 22 decembrie - 21 martie
- C. 23 septembrie - 21 martie

- B. 21 martie - 22 iunie
- D. 23 septembrie - 22 decembrie

Question: 8 of 15

QID: 180

Marks: 1

Imaginea Pământului a fost surprinsă de pe:



- A. Marte
- C. un meteorit

- B. Venus
- D. Lună

Procesul de dezagregare din imagine se datorează:



A. forței de atracție gravitaționale

B. înghețului și dezghețului apei

C. diferențelor de temperatură


D. rădăcinilor plantelor

Question: 10 of 15

QID: 183

Marks: 1

În imagine se observă:



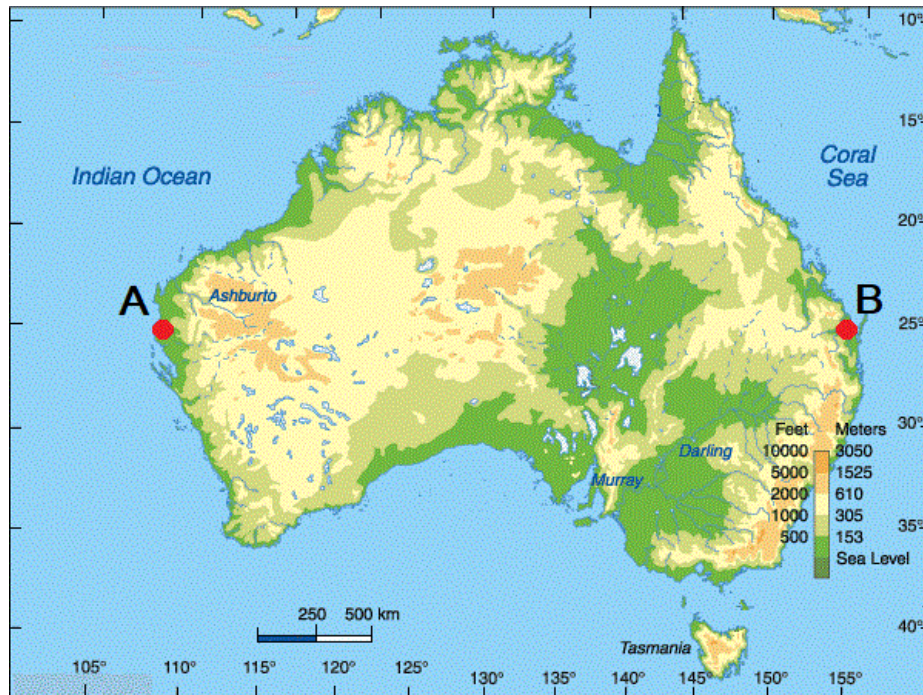
A. o gaură neagră

B. planetele Pământ și Venus

C. o eclipsă de lună

D. o eclipsă de soare

Pentru punctele A și B este corectă următoarea afirmație:



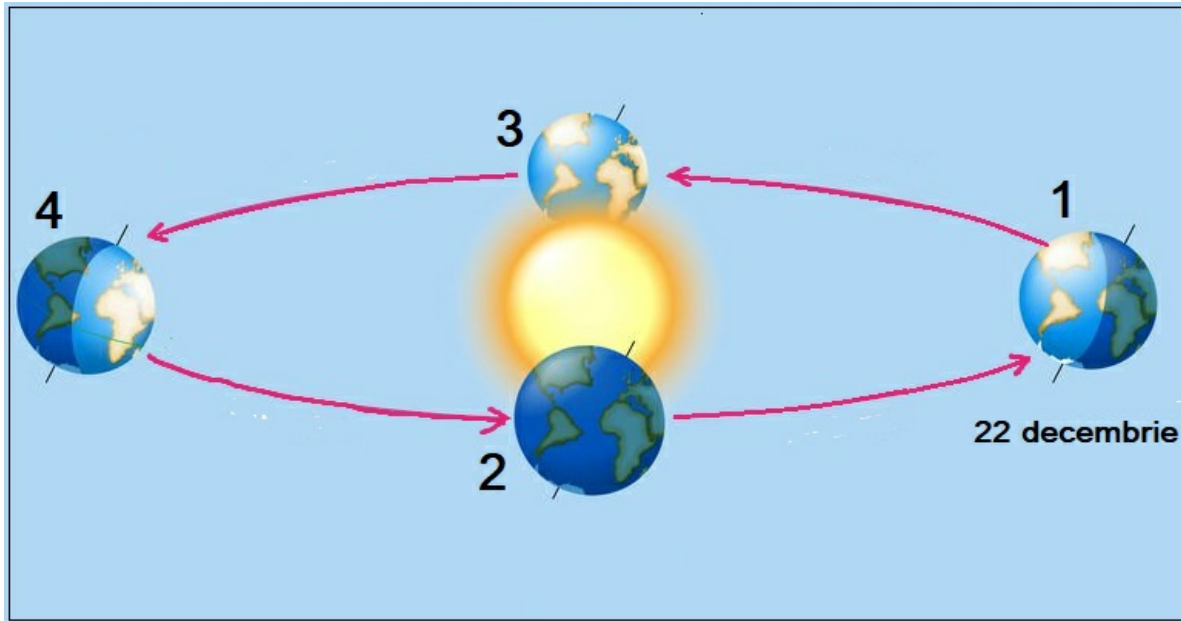
- A. între ele sunt 3000 km distanță
 B. sunt cele mai îndepărtate spre nord și sud
- C. sunt poziționate la 25° latitudine nordică
 D. între ele sunt 45° longitudine vestică

Mesajul din imagine este pentru:



- A. erupții vulcanice
 B. alunecări de teren
- C. cutremure
 D. prăbușiri

Noaptea cea mai scurtă este la momentul:



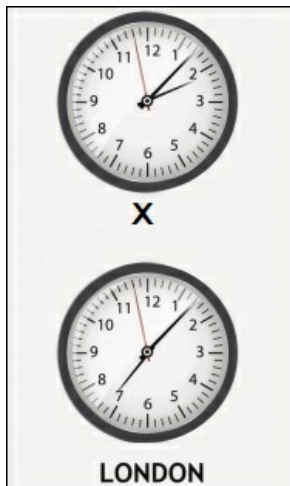
- A. 2
 B. 4
- C. 3
 D. 1

Question: 14 of 15

QID: 185

Marks: 1

În orașul Londra este ziua. În orașul X este noapte pentru că se află:



- A. în același fus orar cu Londra
 B. cu 7 fuse orare spre est de Londra
- C. cu 5 fuse orare spre vest de Londra
 D. în emisfera sudică

Procesul din imagine se datorează:



- A. vecinătății cu satul
- B. prezenței vegetației ierboase
- C. existenței argilei
- D. pantei foarte abrupte

— END OF QUESTION PAPER —

Answer Key

No	Question Type	QID	Correct Answer
Question - 1	Multiple Choice (Radiobutton)	188	C
Question - 2	Multiple Choice (Radiobutton)	182	C
Question - 3	Multiple Choice (Radiobutton)	192	A
Question - 4	Multiple Choice (Radiobutton)	187	B
Question - 5	Multiple Choice (Radiobutton)	181	B
Question - 6	Multiple Choice (Radiobutton)	190	B
Question - 7	Multiple Choice (Radiobutton)	189	C
Question - 8	Multiple Choice (Radiobutton)	180	D
Question - 9	Multiple Choice (Radiobutton)	194	C
Question - 10	Multiple Choice (Radiobutton)	183	D
Question - 11	Multiple Choice (Radiobutton)	186	A
Question - 12	Multiple Choice (Radiobutton)	191	C
Question - 13	Multiple Choice (Radiobutton)	184	B
Question - 14	Multiple Choice (Radiobutton)	185	C
Question - 15	Multiple Choice (Radiobutton)	193	C

--- END OF ANSWER KEY ---