
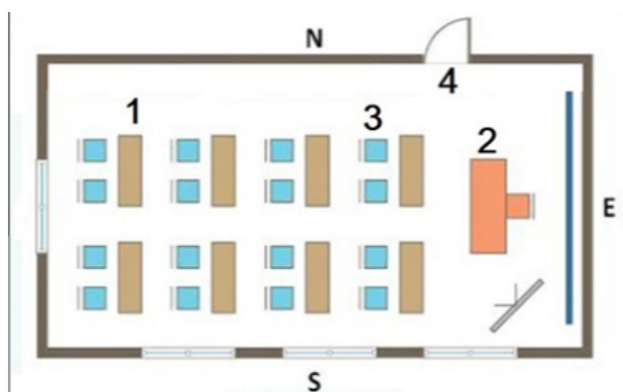


# Clasa a IV-a. Concursul de Geografie „Ionel Țuță” 2022

Pe roza vânturilor punctul cardinal miazăzi este marcat cu numărul:



În imagine este un plan al clasei. Ușa clasei este marcată cu numărul:



Cel mai larg orizont are persoana din balonul cu numărul:



3

1

2

4

Harta din imagine arată:



resursele de subsol

vegetația

plantele agricole

unitățile de relief

Imaginea are legatură cu:



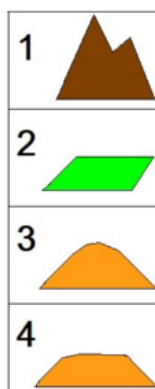
mișcarea Pământului în jurul Soarelui

vegetația diferită

mișcarea Pământului în jurul axei

forme de relief diferite

Forma de relief podiș este marcată cu numărul:



1

4

3

2

Râul marcat pe hartă cu numărul 1 se numește:



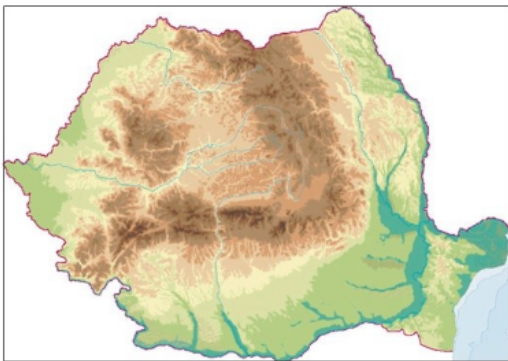
Ialomița

Dâmbovița

Buzău

Argeș

Relieful României este:



neted

predominant muntos

armonios(proporțional)

puțin variat

Lacul din fotografie este:



vulcanic

de la țărmul mării

artificial(amenajat de om)

glaciar

Râul Prut formează porțiunea de graniță marcată cu numărul:



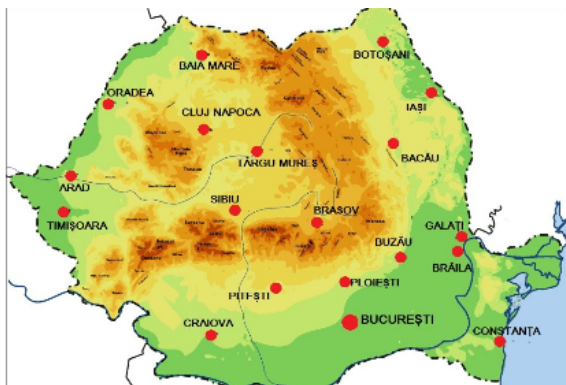
1

3

4

2

Pe harta alăturată sunt marcate:



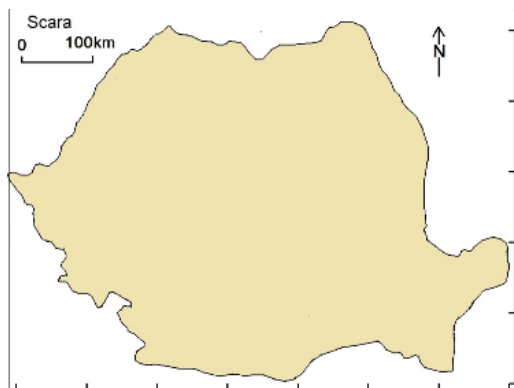
principalele orașe

toate satele și orașele

principalele sate

toate orașele

România are, pe direcția est-vest:



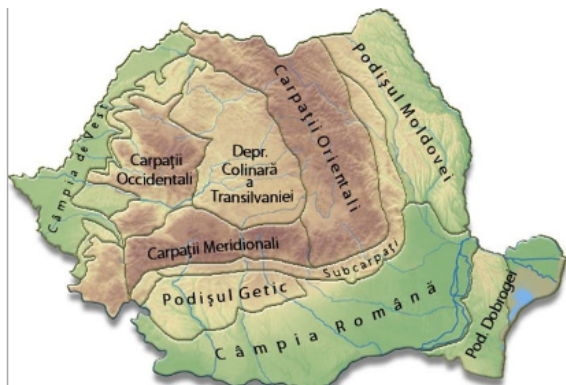
700 km

500 km

600 km

800 km

Unitatea de relief aflată lângă Marea Neagră se numește:



Câmpia Română

Podișul Dobrogei

Câmpia de Vest

Podișul Moldovei

Cer parțial noros și temperaturi de  $19^{\circ}\text{C}$  corespund orașului:



Iași

Cluj

Timișoara

Constanța

Dintre viețuitoarele marine marcate cu numere, în Marea Neagră se regăsește:

