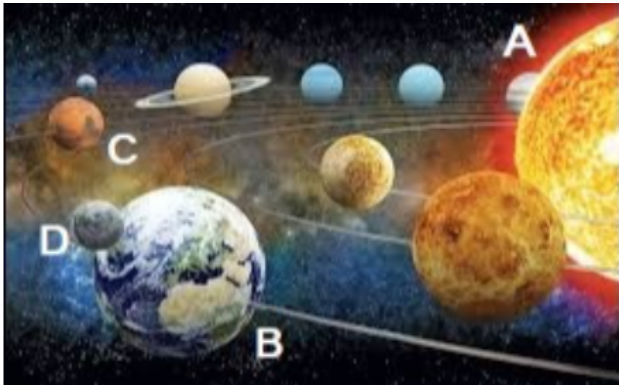


## Clasa a V-a. Concursul de Geografie „Ionel Țuță” 2022

---

În imaginea cu Sistemul Solar, cu litera D este



Venus

Marte

Pământul

Luna

Pe Glob, cu linie roșie este marcat:



Tropicul Capricornului

Cercul Polar de Nord

Ecuatorul

Tropicul Racului

---

Cu numărul 5 este marcat continentul:



Antarctica

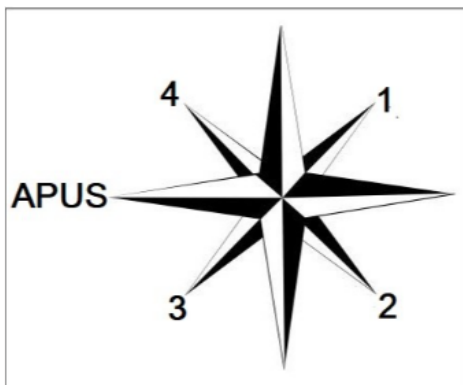
Australia

Asia

Africa

---

Punctul intercardinal NE este marcat cu numărul:




4

2

1

3

Imaginea arată:



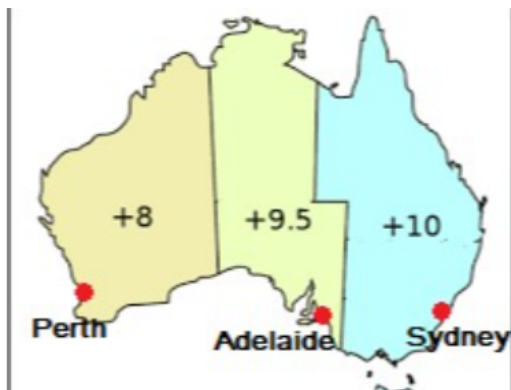
plăcile tectonice

învelișurile Pământului

un cutremur de pământ

o erupție vulcanică

În orașul Sydney este ora 10. În Londra, este ora:



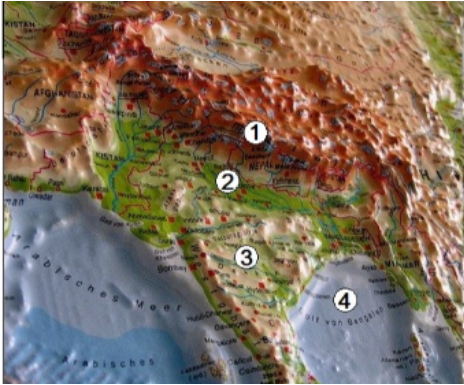
24

aceeași oră

20

8

În imagine forma de relief podiș este marcată cu numărul:



3

1

2

4

Fotografia arată:



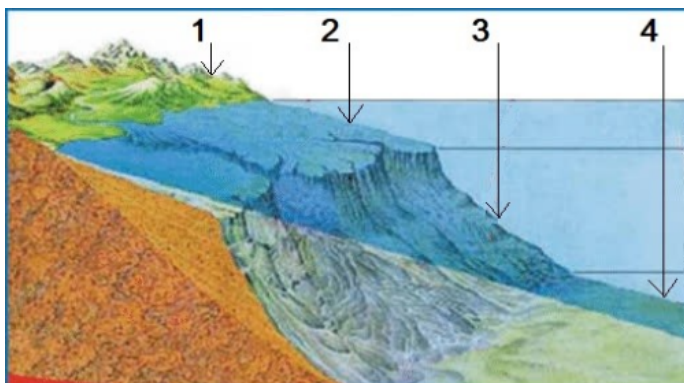
formarea anotimpurilor

formarea zilelor și nopților

durata diferită a zilelor și nopților

formarea zonelor de căldură

Platforma continentală este marcată în imagine cu numărul:



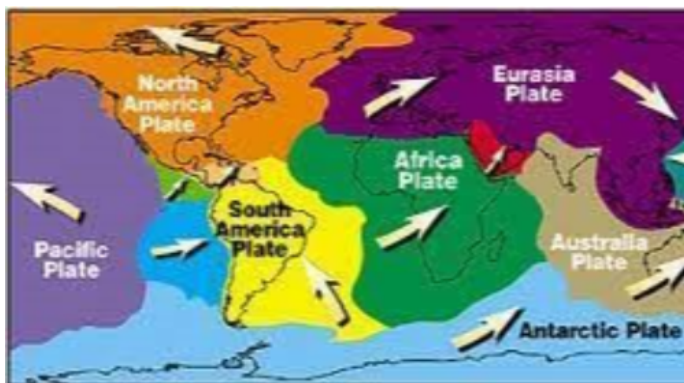
3

2

4

1

Fotografia arată plăcile tectonice. Săgețile sugerează:



locul unde sunt continentele

mișcarea plăcilor

forma diferită a plăcilor

mărimea diferită

Continentul de pe hartă are lungimea de:



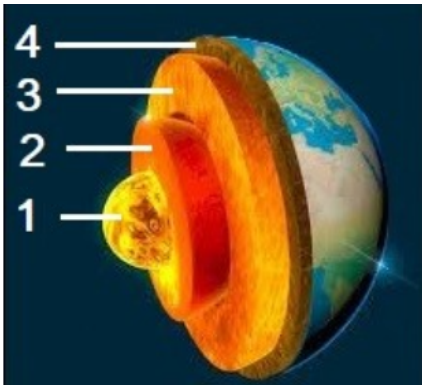
18000 km

5000 km

9000 km

7000 km

În fotografie este structura internă a Pământului. Mantaua este marcată cu numărul:



4


2

3

1

---

Componenta muntelui din fotografie marcată cu numărul 2 se numește:



creastă

versant

poale

vârf

---

La vulcanul din imagine se observă:



că este stins

vatra

coșul

craterul

---

---

În imagine apare Canalul Panama. Locul unde se află  
corespunde:



unei peninsule

unei strâmtoni

unei insule

unui istm