

# CONCURSUL JUDEȚEAN DE GEOGRAFIE „IONEL ȚUȚĂ”

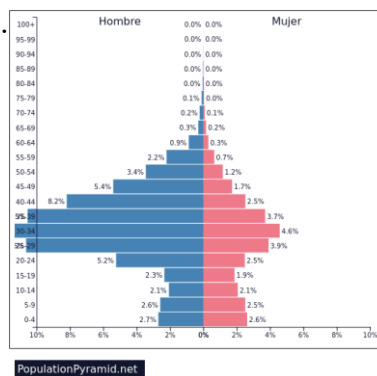
Ediția a VII-a, 28 ianuarie 2023

Clasa a X-a

1. Piramida demografică alăturată arată un dezechilibru între sexe.

Acesta se datorează:

- a. speranței de viață mai mari a sexului F
- b. numărului mai mare de nou născuți de sex M
- c. unui conflict armat important
- d. numărului mare de imigranți



2. Imaginea are legătură cu:

- a. ”exodul creierelor”
- b. structura pe grupe de vârstă
- c. speranța de viață
- d. migrația



3. În prezent se desfășoară un conflict militar în statul marcat pe hartă cu numărul:

- a. 1
- b. 2
- c. 3
- d. 4



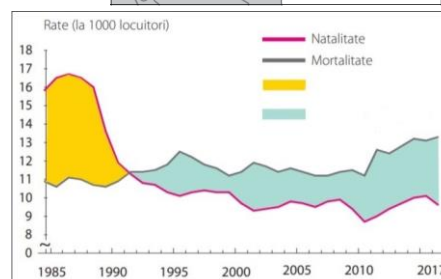
4. Teritoriu compact are:

- a. Yemen
- b. Etiopia
- c. Uganda
- d. Somalia



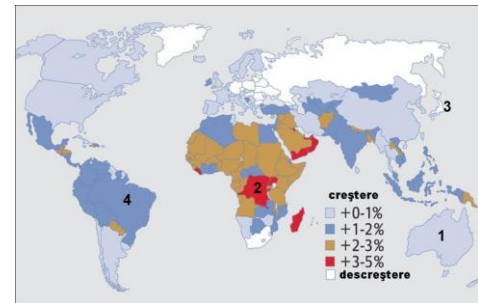
5. Pe graficul alăturat, spațiul albastru corespunde:

- a. bilanțului natural pozitiv
- b. bilanțului migrator negativ
- c. bilanului natural negativ
- d. bilanțului natural zero



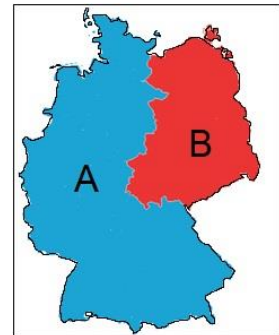
6. Harta arată evoluția numerică a populației, pe state.  
Aveți în atenție statele marcate cu numere.  
Descreștere numerică corespunde statului:

- a. Australia
- b. Japonia
- c. Congo
- d. Brazilia



7. Din unificarea statelor marcate cu A și B a rezultat:

- a. Polonia
- b. Choslovacia
- c. Bosnia și Herțegovina
- d. Germania



8. Cea mai mare densitatea medie dintre statele din tabel este în:

- a. Panama
- b. Suedia
- c. Australia
- d. Italia

Statul	Suprafața (km <sup>2</sup> )	Populația (loc.)
SUEDIA	445.000	10.000.000
ITALIA	301.000	62.000.000
AUSTRALIA	7.700.000	25.000.000
PANAMA	74.000	4.500.000

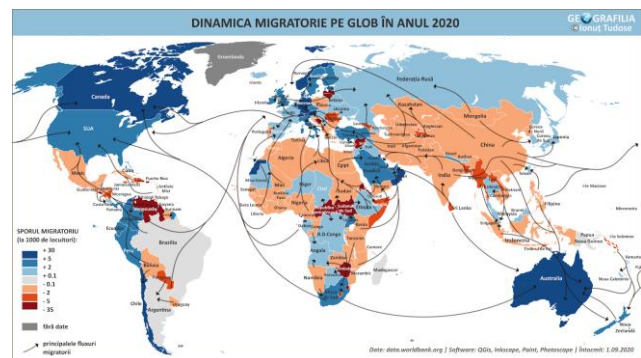
9. Pentru statul de pe hartă, poziția corectă a capitalei corespunde punctului:

- a. 1
- b. 2
- c. 3
- d. 4



10. Pe hartă, nuanțele de maro indică bilanț migrator negativ. În cazul Chinei această situație se datorează:

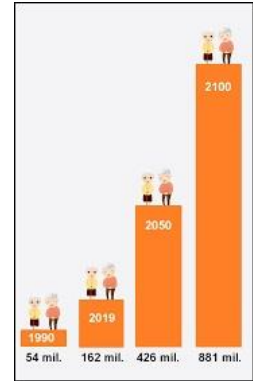
- a. frecvențelor calamități
- b. lipsei locurilor de muncă
- c. regimului politic
- d. teritoriului foarte mare



11. Diagrama corespunde populației lumii de peste 80 de ani.

Evoluția numerică se datorează creșterii:

- a. natalității
- b. frecvenței hazardelor
- c. speranței de viață
- d. migrațiilor



12. În fotografie apare granița dintre Belgia și Olanda.

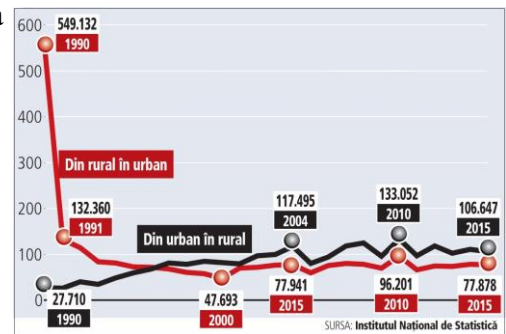
Este de tip:

- a. natural terestră
- b. artificial astronomică
- c. artificial terestră
- d. nedefinită



13. Graficul arată migrația între urban și rural din România pentru intervalul 1990 - 2015. Observați situația *din urban în rural* și asociați-o răspunsului corect în ceea ce privește motivația dominantă:

- a. economică
- b. ecologică
- c. socio-culturală
- d. emoțională



14. Harta politică a Oceaniei arată foarte multe teritorii dependente. Explicația ține de faptul că:

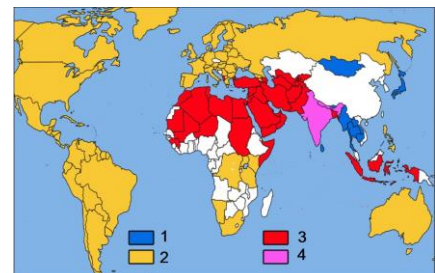
- a. se află în Oceanul Pacific, care este cel mai mare
- b. sunt departe de continentele mari
- c. sunt teritorii insulare mici
- d. sunt foarte bogate în resurse naturale



15. Pe hartă prin culori diferite sunt marcate religii importante.

Pentru hinduism corespunde culoarea marcată cu numărul:

- a. 2
- b. 1
- c. 4
- d. 3



**RĂSPUNSURI** clasa a X a

<b>Întrebare</b>	<b>1</b>	<b>2</b>	<b>3</b>	<b>4</b>	<b>5</b>	<b>6</b>	<b>7</b>	<b>8</b>	<b>9</b>	<b>10</b>	<b>11</b>	<b>12</b>	<b>13</b>	<b>14</b>	<b>15</b>
<b>Răspuns</b>	d	d	d	b	c	b	d	d	d	c	c	c	b	c	c

**6 puncte x 15 = 90 p**

**10 puncte din oficiu**

**Total = 100 puncte**