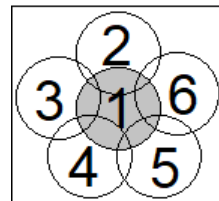


CONCURSUL JUDEȚEAN DE GEOGRAFIE „IONEL ȚUȚĂ”
Ediția a VIII-a, 28 ianuarie 2023

Clasa a XI-a

1. Schema are legătură cu *mediul geografic*. Cu numere sunt componente ale mediului. Componenta cu numărul 1 este:

- a. aerul
- b. apa
- c. relieful
- d. omul



2. În imagine apare o adaptare la factorul geocologic:

- a. lumină
- b. precipitații
- c. relief
- d. sol



3. În fotografie este un *peisaj*. În identificarea acestuia, criteriul de bază îl constituie:

- a. relieful
- b. solul
- c. fauna
- d. vegetația



4. Imaginea alăturată sugerează:

- a. despădurire
- b. deșertificare
- c. poluare
- d. eroziune



5. În fotografie este surprins un hazard din orașul New York, respectiv:

- a. incendiu
- b. conflict militar
- c. ceață
- d. terorism



6. Mediul geografic cel mai intens locuit este marcat cu numărul:

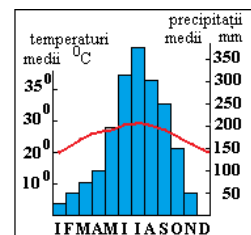
- a. 1
- b. 2
- c. 3
- d. 4



7. În fotografie se observă:
- o acțiune de împădurire
 - o acțiune de despădurire
 - un proces de deșertificare
 - un hazard natural



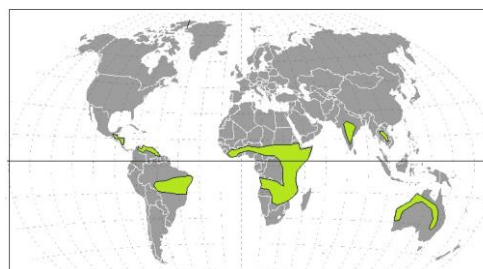
8. Diagrama climatică indică mediul geografic:
- pădure ecuatorială
 - savană
 - pădure de foioase
 - pădure musonică



9. Din fotografia Rezervației naturale "Grădina Zmeilor" rezultă că aceasta este:
- faunistică
 - speologică
 - forestieră
 - geologică



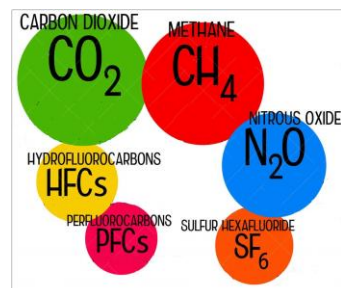
10. Spațiul colorat de pe hartă corespunde mediului geografic denumit:
- savană
 - deșert tropical
 - pădure musonică
 - pădure ecuatorială



11. Fotografia are legătură cu poluarea:
- aerului
 - solului
 - apei
 - fonică



12. Alături apar gaze cu efect de seră. Defrișarea favorizează creșterea concentrației gazului:
- metan
 - oxid de azot
 - hidrofluorocarbon
 - dioxid de carbon



13. În fotografie apare o interacțiune între componentele mediului:

- a. de natură biotică
- b. pe timp lung
- c. dinamică
- d. aparent statică



14. Planta din imagine, ca adaptare la mediu, este:

- a. hidrofilă
- b. xerofilă
- c. mezofilă
- d. umbrofilă



15. Fotografia arată un mediu:

- a. natural
- b. antropic
- c. antropizat
- d. ambiant



RĂSPUNSURI clasa a XI a

Întrebare	1	2	3	4	5	6	7	8	9	10	11	12	13	14	15
Răspuns	d	a	d	b	d	b	b	d	d	a	d	d	c	b	c

6 puncte x 15 = 90 p

10 puncte din oficiu

Total = 100 puncte