

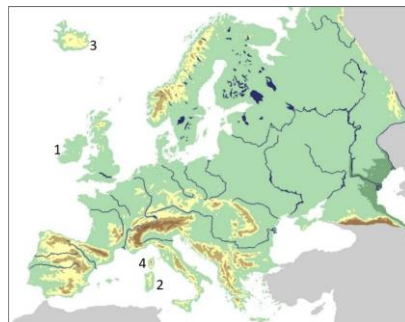
CONCURSUL JUDEȚEAN DE GEOGRAFIE „IONEL ȚUȚĂ”

Ediția a VIII-a, 28 ianuarie 2023

Clasa a XII-a

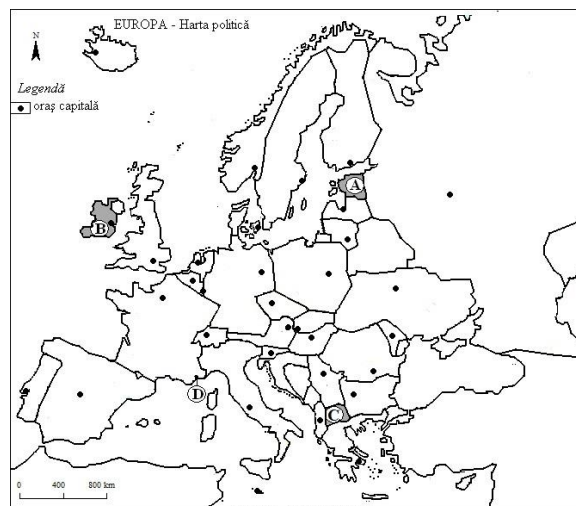
1. Vulcanism activ este pe insula marcată cu numărul:

- a. 1
- b. 2
- c. 3
- d. 4



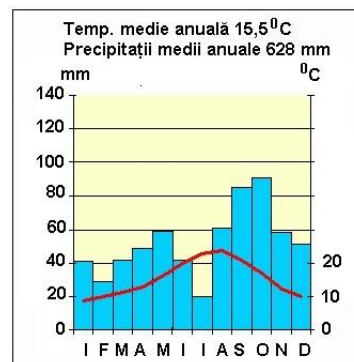
2. Statul marcat, pe hartă, cu litera A se numește:

- a. Monaco
- b. Macedonia
- c. Estonia
- d. Irlanda



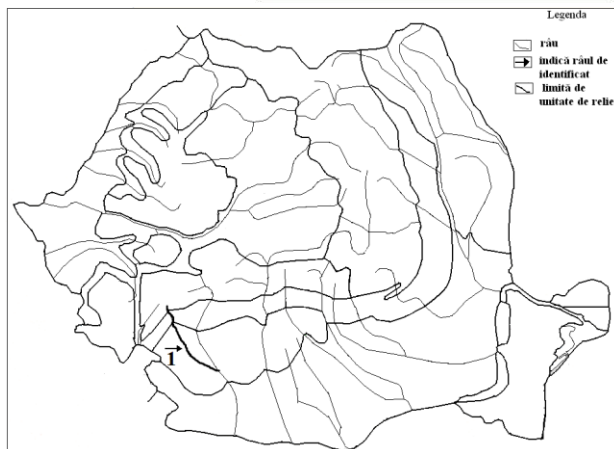
3. Diagrama climatică corespunde climatului:

- a. subpolar
- b. temperat-continental
- c. temperat-oceanic
- d. mediteranean



4. Râul marcat pe hartă cu numărul 1 se numește:

- a. Jiu
- b. Cerna
- c. Gilort
- d. Motru



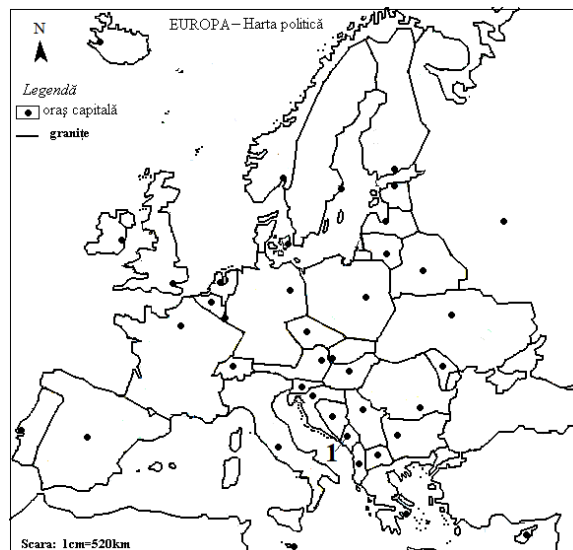
5. Tabelul prezintă ponderea populației vârstnice la ultimele două recensăminte. Un factor ce a determinat creșterea ponderii îl constituie:

România	2011	2022
Populație de peste 65 ani	16,1%	19,6%

- imigrările
- scăderea natalității
- scăderea speranței de viață
- creșterea natalității

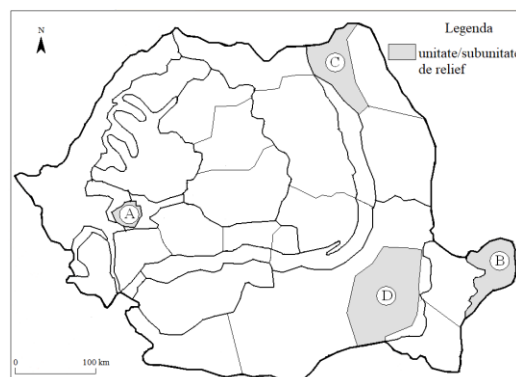
6. Orașul capitală marcat pe hartă cu numărul 1 se numește:

- Podgorica
- Praga
- Sarajevo
- Tirana



7. Cu litere, pe hartă, sunt unități de relief. Factorul natalitate influențează densitatea medie din unitatea de relief:

- A
- B
- C
- D



8. Diagrama climatică este pentru orașul București. Valoarea corectă a amplitudinii termice este:

- 20,1 °C
- 10,8 °C
- 22,2 °C
- 24,3 °C



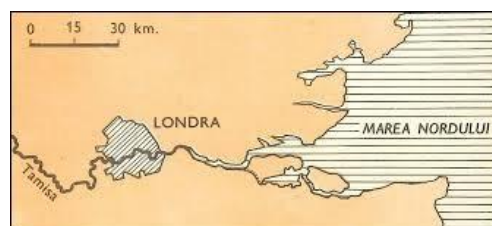
9. Statele marcate cu albastru, pe hartă, au în comun:

- a. tipul de climă
- b. limba vorbită
- c. regiunea geografică
- d. grupa de popoare



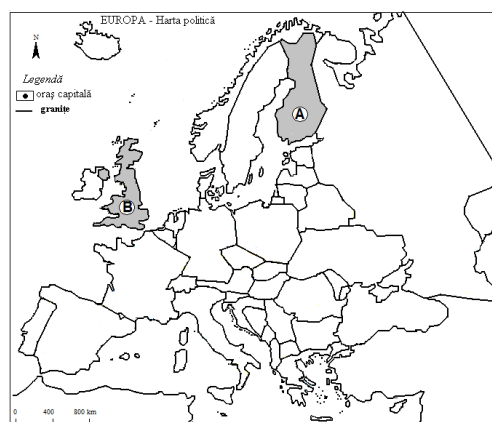
10. Țărmul din imagine este de tip:

- a. fiord
- b. estuar
- c. deltă și cordon litoral
- d. dalmatic



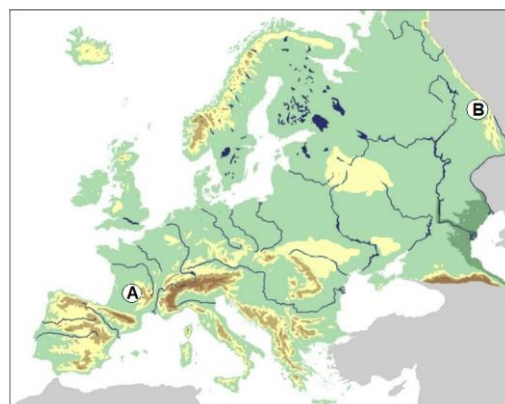
11. Clima din statul B comparativ cu clima din statul A prezintă:

- a. precipitații mai puține
- b. temperaturi mai coborâte iarna
- c. temperaturi mai ridicate vara
- d. mase de aer mai uscat



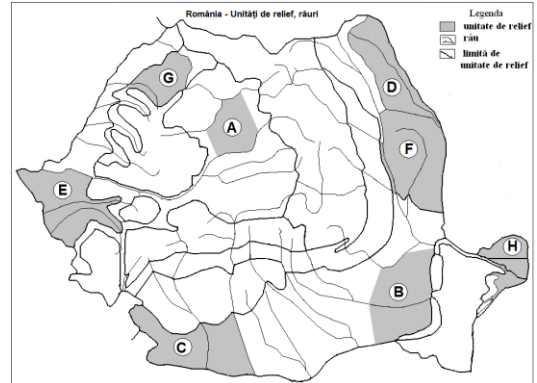
12. Unitățile montane A și B au în comun:

- a. înălțimea de peste 2000 m
- b. existența reliefului glaciatic
- c. prezența rocilor cristaline, magmatice și sedimentare
- d. orogeneza



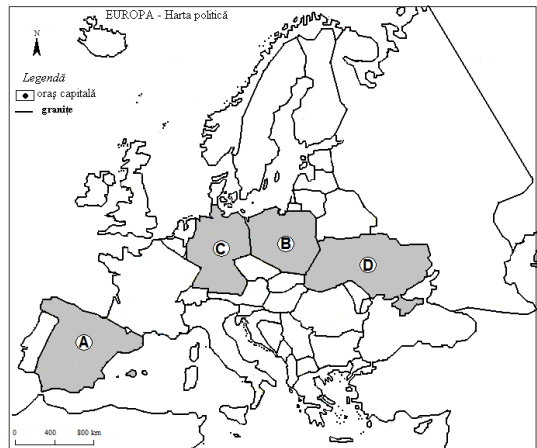
13. Același tip de vegetație corespunde unităților de relief:

- a. A și B
- b. C și D
- c. E și F
- d. G și H



14. Bazinul carbonifer Asturia se află în statul marcat pe hartă cu litera:

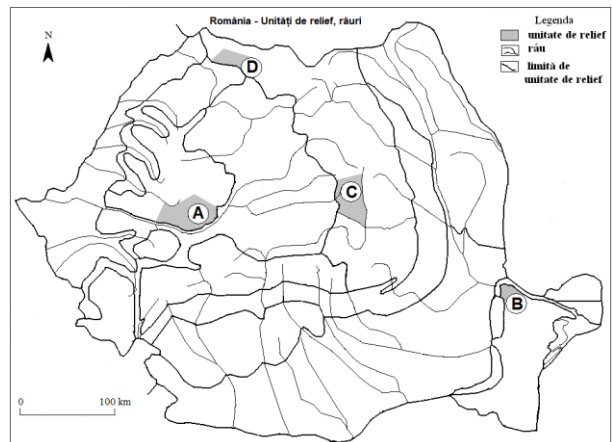
- a. A
- b. B
- c. C
- d. D



15. Cu litere, pe hartă, sunt marcate unități de relief formate prin vulcanism.

S-a format prima unitatea:

- a. A
- b. B
- c. C
- d. D



RĂSPUNSURI clasa a XII a

Întrebare	1	2	3	4	5	6	7	8	9	10	11	12	13	14	15
Răspuns	c	c	d	d	b	a	c	d	d	b	c	d	b	a	b

6 puncte x 15 = 90 p

10 puncte din oficiu

Total = 100 puncte