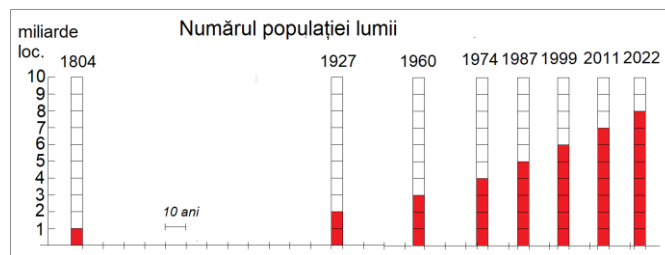


**CONCURSUL JUDEȚEAN DE GEOGRAFIE „IONEL ȚUȚĂ”**  
Ediția a VIII-a, 28 ianuarie 2023

Clasa a VI-a

1. Graficul arată faptul că numărul populației lumii a juns în anul 2022 la:

- a. 1 miliard
- b. 10 miliarde
- c. 9 miliarde
- d. 8 miliarde



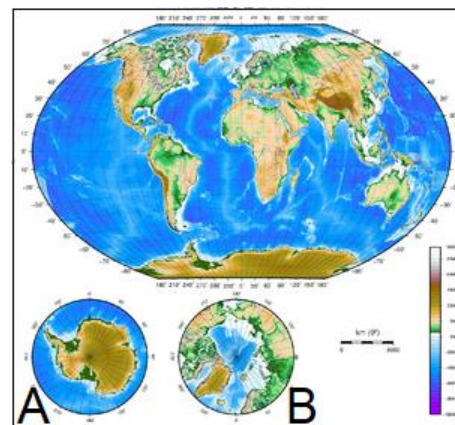
2. Dumitru Prunariu este cunoscut pentru faptul că:

- a. a făcut înconjurul lumii pe apă
- b. a demonstrat forma sferică a Pământului
- c. a explorat spațiul cosmic
- d. a ajuns pe Lună



3. În imagine cu A și B apar:

- a. zonele de la tropice
- b. zonele de la poli
- c. continentele în trecut și în viitor
- d. cel mai mare continent și cel mai mare ocean



4. În fotografiile 1 și 2 se observă:

- a. două așezări rurale
- b. două așezări urbane
- c. două părți din aceeași așezare
- d. un oraș și un sat



5. În imagine se observă activități economice din sectorul:

- a. secundar
- b. primar
- c. terțiar
- d. cuaternar



6. În fotografie, din aceeași grupă de vârstă, fac parte persoanele:

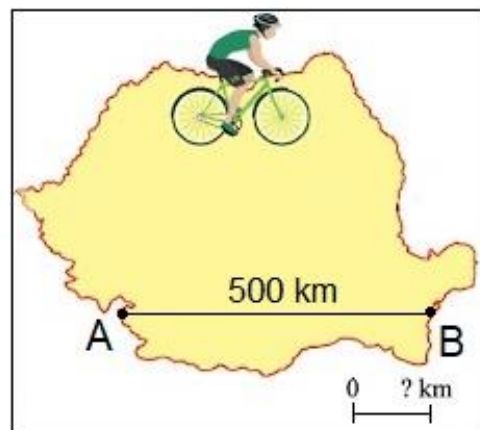
- a. 1 și 2
- b. 3 și 4
- c. 4 și 6
- d. 1 și 6



7. Distanța reală între punctele A și B este de 500 km.

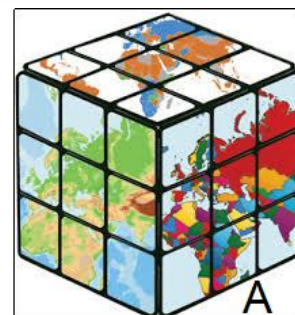
Pe scara grafică, al cărei segment este de 1 cm, trebuie scris:

- a. 225 km.
- b. 200 km.
- c. 150 km.
- d. 125 km.



8. Pe fața cubului marcată cu litera A apare o hartă:

- a. fizică
- b. politică
- c. economică
- d. hidrografică



9. Cu numere de la 1 la 7 sunt resurse naturale. Resursă energetică eoliană apare în fotografia cu numărul:

- a. 1
- b. 2
- c. 4
- d. 7



10. Satul din fotografie este de tip:

- a. adunat
- b. risipit
- c. răsfirat
- d. liniar




11. Cele două imagini sugerează:

- a. două tipuri de aşezări
- b. diversitatea de activităţi economice
- c. mediu poluat şi mediu fără poluare
- d. obiective turistice



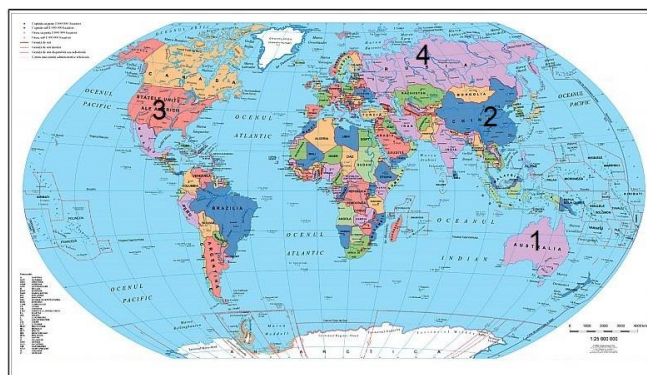
12. În imaginile marcate cu numere apar obiective din oraşe foarte vizitate de turişti. Pentru Veneţia corespunde numărul:

- a. 1
- b. 2
- c. 3
- d. 4



13. Pe harta politică, ţara marcată cu numărul 4 este:

- a. Australia
- b. Rusia
- c. China
- d. SUA



14. În fotografie este oraşul New York. Acesta face parte din megalopolisul:

- a. Tokaydo
- b. SanSan
- c. Marile Lacuri
- d. BosWash



15. În fotografiile se observă două aspecte legate de:

- a. protecţia mediului
- b. exploatarea de resurse
- c. distrugerea mediului
- d. acţiuni ecologice



**RĂSPUNSURI clasa a VI a**

<b>Întrebare</b>	<b>1</b>	<b>2</b>	<b>3</b>	<b>4</b>	<b>5</b>	<b>6</b>	<b>7</b>	<b>8</b>	<b>9</b>	<b>10</b>	<b>11</b>	<b>12</b>	<b>13</b>	<b>14</b>	<b>15</b>
<b>Răspuns</b>	d	c	b	d	c	d	d	b	d	b	c	b	b	d	c

**6 puncte x 15 = 90 p**

**10 puncte din oficiu**

**Total = 100 puncte**