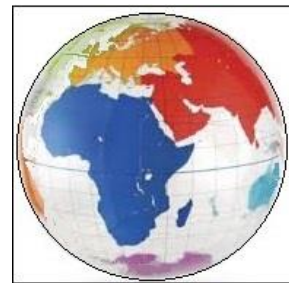


# CONCURSUL JUDEȚEAN DE GEOGRAFIE „IONEL ȚUȚĂ”

Ediția a VIII-a, 28 ianuarie 2023 Clasa a VII -a

1. Pe globul geografic, continentul Asia este marcat prin culoarea:

- a. albastru închis
- b. albastru deschis
- c. maro
- d. roșu



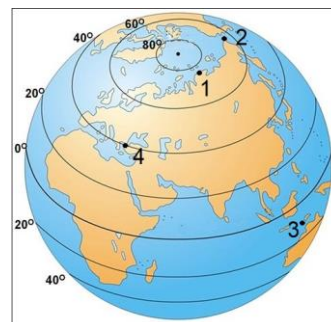
2. Datele statistice din tabel indică faptul că statul marcat cu litera B este:

- a. China
- b. India
- c. Mongolia
- d. Japonia

Statul	Suprafața (km )	Populația
A	9.600.000	1.400.000.000
B	3.300.000	1.300.000.000
C	1.300.000	3.100.000
D	380.000	125.000.000

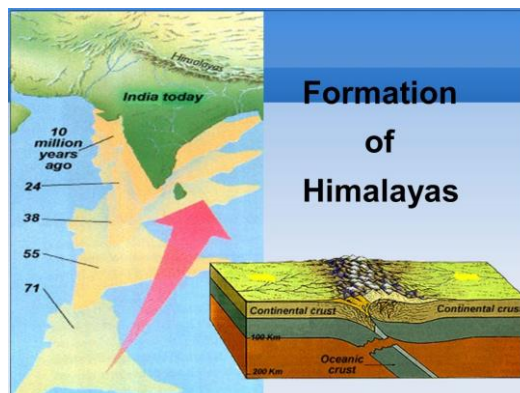
3. Pe glob, cu numerele 1, 2, 3 și 4 sunt punctele extreme ale continentului Asia. La sud de Ecuator este punctul:

- a. 1
- b. 2
- c. 3
- d. 4



4. Imaginea sugerează că Munții Himalaia:

- a. sunt cei mai înalți
- b. sunt formați prin ciocnirea a două plăci tectonice
- c. sunt formați prin vulcanism
- d. blochează vânturile musonice

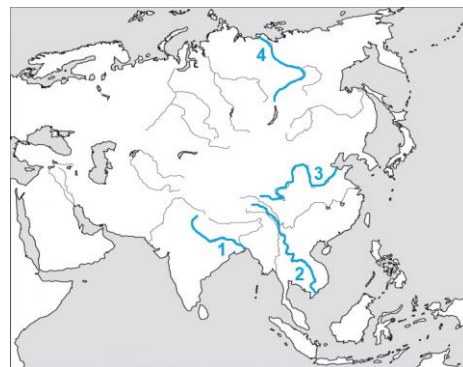


5. În fotografiile sunt patru vulcani din Asia. Este situat într-o climă ecuatorială vulcanul din fotografia marcată cu litera:

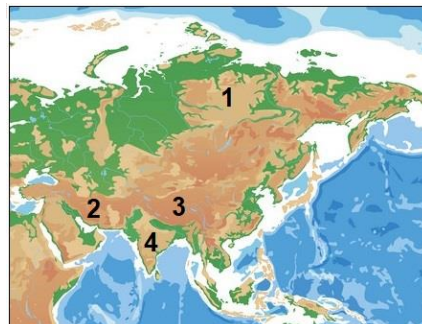
- a. A
- b. B
- c. C
- d. D



6. Pe hartă sunt marcate patru fluvii din Asia. Acestea au în comun faptul că:
- au debite aproape egale
  - se varsă în același ocean
  - au lungimi apropiate
  - se varsă prin delte



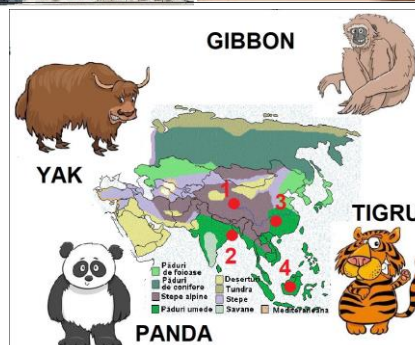
7. Pe hartă, cu numere sunt podișuri. Cu numărul 4 este marcat podișul:
- Siberiei Centrale
  - Iran
  - Deccan
  - Tibet



8. Fotografiile sugerează, pentru Asia:
- populația numeroasă
  - diversitatea lingvistică
  - așezările numeroase
  - diversitatea confesională



9. Punctele din imagine corespund localizării animalelor pe continent. Pentru *ursul Panda* localizarea corectă este:
- 1
  - 2
  - 3
  - 4



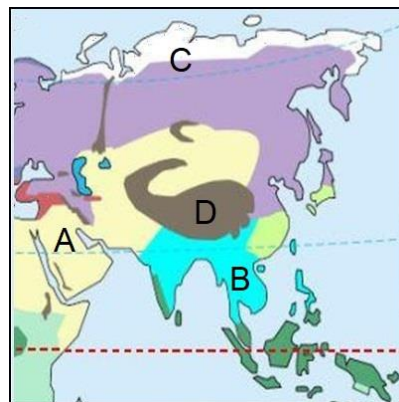
10. Cu litere sunt marcate state. Informațiile: situat în Peninsula Indochina, capitala Bangkok, corespund statului, marcat pe hartă, cu litera:

- A
- B
- C
- D



11. Pe hartă, culorile corespund climatelor diferite. Vânturile musonice sunt specifice climatului marcat cu litera:

- a. A
- b. B
- c. C
- d. D



12. În fotografie este orașul Tokyo. Pe baza analizei imaginii, afirmațiile corecte sunt:

- a. oraș foarte mare lângă munți de încrețire
- b. oraș foarte mare lângă munte vulcanic
- c. oraș vechi pe un relief diversificat
- d. oraș modern numai cu clădiri înalte




13. Orașele capitală marcate cu numerele 1 și 2 sunt:

- a. Shanghai și Kuala Lumpur
- b. Singapore și Seul
- c. Jakarta și Phenian
- d. Bangkok și Beijing



14. Vârful din fotografie se află în:

- a. Munții Caucaz
- b. Podișul Tibet
- c. Munții Altai
- d. Munții Himalaia



15. În imagine este delimitată peninsula:

- a. Asia Mică
- b. Arabia
- c. Indochina
- d. India



**RĂSPUNSURI clasa a VII a**

<b>Întrebare</b>	<b>1</b>	<b>2</b>	<b>3</b>	<b>4</b>	<b>5</b>	<b>6</b>	<b>7</b>	<b>8</b>	<b>9</b>	<b>10</b>	<b>11</b>	<b>12</b>	<b>13</b>	<b>14</b>	<b>15</b>
<b>Răspuns</b>	d	b	c	b	b	d	c	d	c	c	b	b	b	d	b

**6 puncte x 15 = 90 p**

**10 puncte din oficiu**

**Total = 100 puncte**