

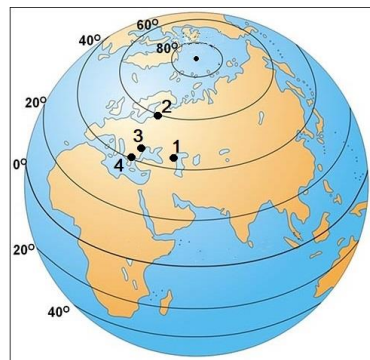
CONCURSUL JUDEȚEAN DE GEOGRAFIE „IONEL ȚUȚĂ”

Ediția a IX-a, 20 ianuarie 2024

Clasa a VIII-a

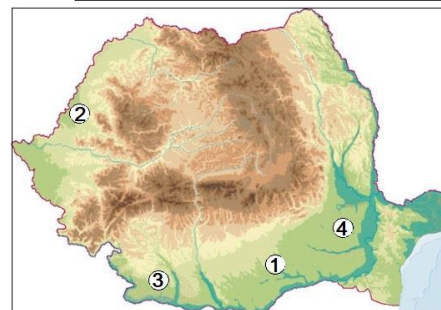
1. Pe Globul geografic din imagine *România* corespunde punctului marcat cu numărul:

- a. 1
- b. 2
- c. 3
- d. 4



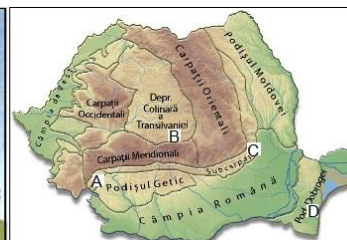
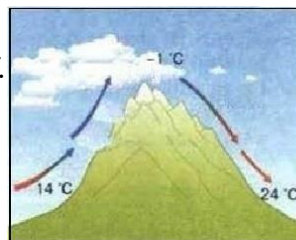
2. *Dune de nisip* se întâlnesc în zona marcată, pe hartă, cu numărul:

- a. 1
- b. 2
- c. 3
- d. 4



3. În imagine este vântul numit *foehn* iar pe hartă, cu litere, sunt unități de relief. Nu prezintă acest tip de vânt unitatea:

- a. A
- b. B
- c. C
- d. D



4. În imagine apare scara de proporție. Pentru o unitate de relief, lungimea pe hartă este de 6 centimetri.

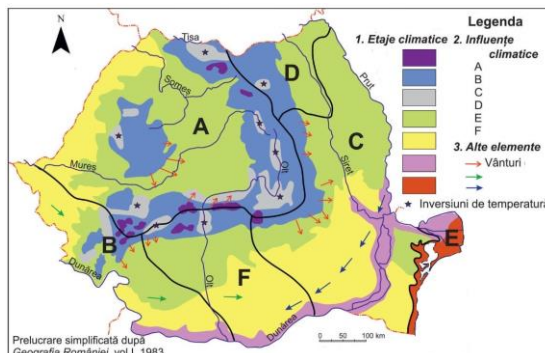
Această *distanță* înseamnă în realitate:

- a. 480 km
- b. 4,8 km
- c. 4800 km
- d. 48 km

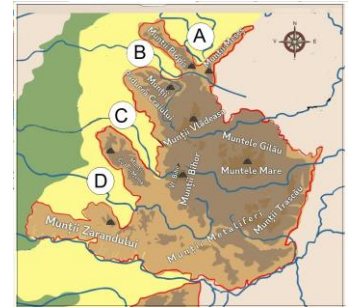


5. Pe hartă sunt marcate cu litere influențe climatice. *Influențele submediteraneene* sunt marcate cu litera:

- a. E
- b. F
- c. B
- d. D



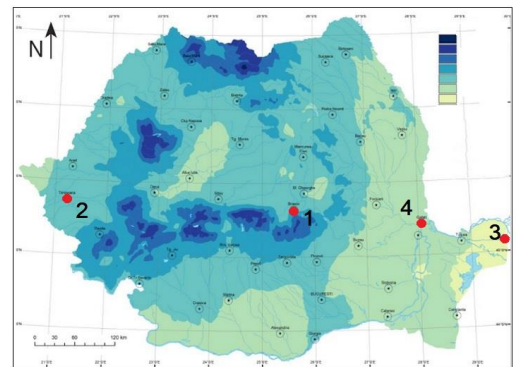
6. Pe hartă, cu litere sunt marcate depresiuni.
Depresiunea Vad-Borod este marcată cu litera:
- A
 - B
 - C
 - D



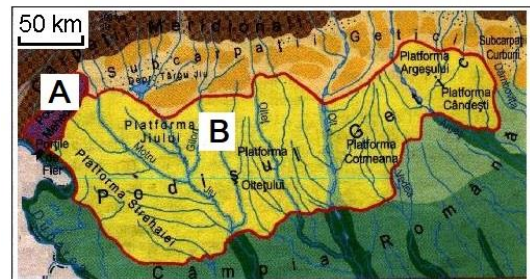
7. În fotografie se observă creasta calcaroasă a *Munților*:
- Făgăraș
 - Bucegi
 - Metaliferi
 - Piatra Craiului



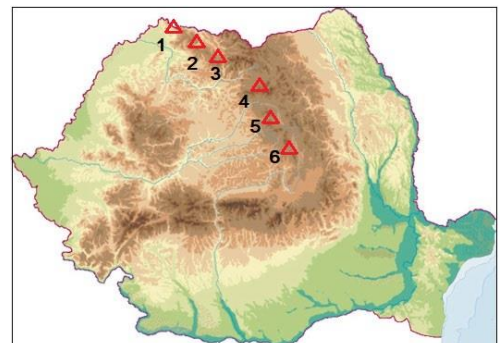
8. Pe Harta repartiției precipitațiilor medii anuale, cu numere sunt orașe. *Cele mai puține precipitații* sunt în orașul marcat cu numărul:
- 1
 - 2
 - 3
 - 4



9. Pe hartă, cu literele A și B sunt marcat două *podişuri*. Acestea nu pot face parte din aceeași unitate majoră, deși sunt vecine, datorită:
- reliefului diferit
 - înălțimilor diferite
 - rocilor diferite
 - suprafeței diferite

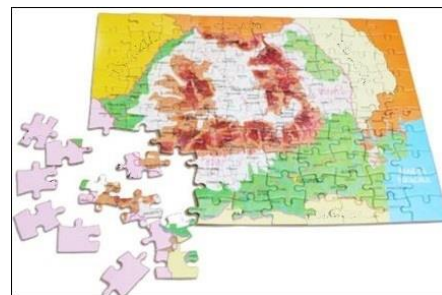


10. Pe hartă, cu numere sunt marcați munți vulcanici. Au înălțimea de 2100 m *munții* marcați cu numărul:
- 6
 - 3
 - 4
 - 1



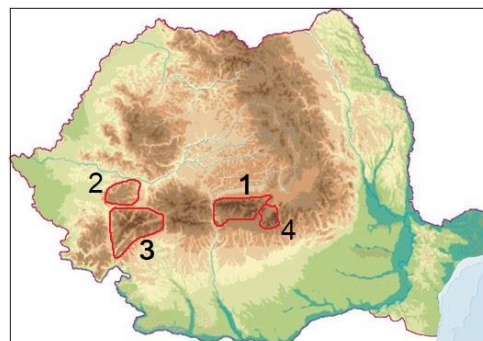
11. Puzzelul cu *vecinii României* este incomplet în dreptul țării numită numite:

- a. Bulgaria
- b. Ungaria
- c. Ucraina
- d. Serbia



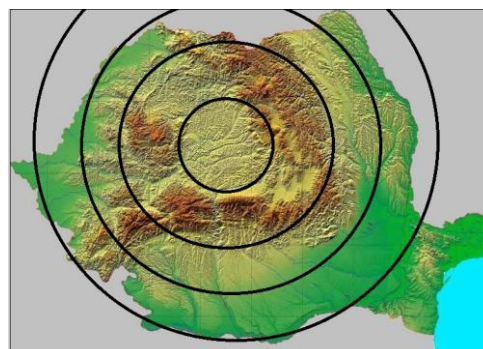
12. Pe hartă fizică, cu numere sunt marcate grupe de munți. *Relieful glaciuar* lipsește din grupa marcată cu numărul:

- a. 1
- b. 2
- c. 3
- d. 4



13. Imaginea sugerează una dintre *caracteristicile reliefului României*, și anume:

- a. diversificat
- b. împărțit proporțional
- c. așezat în trepte
- d. concentric



14. Pe hartă, cu litere sunt marcate subunități ale Câmpiei Române. *Cea mai joasă subunitate este:*

- a. A
- b. B
- c. C
- d. D



15. Teritoriul României se desfășoară în *latitudine* pe:

- a. $29 - 20 = 9^0$
- b. $48 - 43 = 5^0$
- c. $48 - 29 = 13^0$
- d. $48 - 20 = 28^0$



RĂSPUNSURI

Întrebare	1	2	3	4	5	6	7	8	9	10	11	12	13	14	15
Răspuns	c	c	d	d	c	b	d	c	c	c	d	b	d	d	b